

## 社 会 ( 40 分 ) 答えはすべて解答用紙に書き入れること。

- 1 西大和学園中学校の地理の授業で、各地方の統計をもとに、班ごとに問題の素材を作るという課題が出されました。そこで大和さんの班では、九州・沖縄地方の統計など地理的な事項をまとめた以下の資料を用意しました。資料をもとにしたあとの問1～問11に答えなさい。なお、あ～くは九州・沖縄地方の県のいずれかを示しています。

### 資料

| 地理的な事項                 | あ      | い      | う      | え       | お      | か      | き       | く       |
|------------------------|--------|--------|--------|---------|--------|--------|---------|---------|
| ①面積 (km <sup>2</sup> ) | 6,341  | 2,441  | 2,282  | 9,186   | 4,988  | 4,131  | 7,409   | 7,734   |
| ②政令指定都市の数              | 0      | 0      | 0      | 0       | 2      | 0      | 1       | 0       |
| ③温泉の源泉数                | 5,102  | 187    | 20     | 2,751   | 421    | 202    | 1,327   | 202     |
| ④世界自然遺産がある             |        |        | ○      | ○       |        |        |         |         |
| ⑤新幹線の駅がある              |        | ○      |        | ○       | ○      | ○      | ○       |         |
| 〈 ☆ 〉                  |        |        | ○      | ○       |        | ○      |         |         |
| ⑥いちごの生産量 (トン)          | —      | 7,380  | —      | —       | 16,600 | 10,700 | 12,100  | —       |
| ⑦ピーマンの生産量 (トン)         | 7,610  | —      | 2,710  | 13,300  | —      | —      | 3,450   | 26,800  |
| ⑧のり類の養殖量 (トン)          | 82     | 75,027 | 71     | 389     | 48,446 | 303    | 35,929  | —       |
| ⑨肉用牛の飼育頭数 (頭)          | 51,500 | 52,800 | 78,000 | 337,800 | 23,400 | 88,100 | 133,600 | 254,500 |

「○」は事項があてはまることを示しています。「—」はデータを省略していることを示しています。統計年次は、面積、肉用牛の飼育頭数は2022年、温泉の源泉数、いちご・ピーマンの生産量は2021年、のり類の養殖量は2020年『日本国勢図会2023/24』『データで見る県勢2023』により作成

- 問1 下線部①に関連して、次の表1は国別面積で上位5位にあたる国とそれぞれの面積を示したものです。これを見て、あとの(1)～(3)の問いに答えなさい。

表1



| 国名       | 面積 (千km <sup>2</sup> ) |
|----------|------------------------|
| ロシア      | 17,098                 |
| <b>A</b> | 9,985                  |
| アメリカ合衆国  | 9,834                  |
| 中華人民共和国  | 9,600                  |
| ブラジル     | 8,510                  |

統計年次は2021年

『日本国勢図会2023/24』により作成

# 社 会

(1) Aにあてはまる国の国旗として正しいものを、次のア～エから1つ選び、記号で答えなさい。なお、国旗の縦横比については、修整している場合があります。



(2) 中華人民共和国の面積と九州100個分の面積はどちらが大きいと考えられるか、中華人民共和国の方が大きい場合はア、九州100個分の方が大きい場合はイで答えなさい。なお、本州と北海道、九州、四国のおおよその面積比は、本州：北海道：九州：四国＝12：4：2：1です。

(3) ロシア・アメリカ合衆国・ブラジルと日本の地理的なかわりについて説明した次の i～iii の文が正しいか誤っているかを判断し、その正誤の組み合わせとして正しいものを、あとのア～カから1つ選び、記号で答えなさい。

- i ロシアから日本へは、液化天然ガスや石炭が輸出されている。ロシアのサハリン（樺太）<sup>からふと</sup>における天然ガス採掘<sup>くつ</sup>プロジェクトには、日本企業も出資していた。
- ii アメリカ合衆国から日本へは、医薬品や肉類が輸出されている。日本にとってアメリカとの貿易は、輸入額が輸出額を上回り貿易赤字となっている。
- iii ブラジルから日本へは、鉄鉱石やとうもろこしが輸出されている。かつて多くの日本人がブラジルへ移り住み、コーヒー農園などで働いていた。

|   | i | ii | iii |
|---|---|----|-----|
| ア | 正 | 正  | 誤   |
| イ | 正 | 誤  | 正   |
| ウ | 正 | 誤  | 誤   |
| エ | 誤 | 正  | 正   |
| オ | 誤 | 正  | 誤   |
| カ | 誤 | 誤  | 正   |

# 社 会

問2 下線部②について、政令指定都市は、資料中の**お**の県のように、同じ道府県内に複数の都市が指定されていることがあります。そのうち、静岡県は政令指定都市が複数あることに加え、県庁所在地である静岡市より**はま**松市の方が人口の多い県です。これに関連して、次の図1は、千葉県、静岡県、新潟県、兵庫県のいずれかの製造品出荷額等の割合を示したものです。静岡県にあてはまるものを、図中の**ア**~**エ**から1つ選び、記号で答えなさい。



図1

統計年次は2019年  
『データで見る県勢2023』により作成

問3 下線部③について、温泉があることはその地域にどのような点で経済的な利益をもたらすと考えられるか、10字程度で2つ答えなさい。

問4 下線部④に関連して、世界遺産のなかには登録理由となった要素が失われたと判断され、抹消されたものがあります。1994年に世界自然遺産として登録されたものの、2007年に世界遺産として初めて抹消された「アラビアオリックスの保護区」がある場所を、次の図2中の**ア**~**エ**から1つ選び、記号で答えなさい。

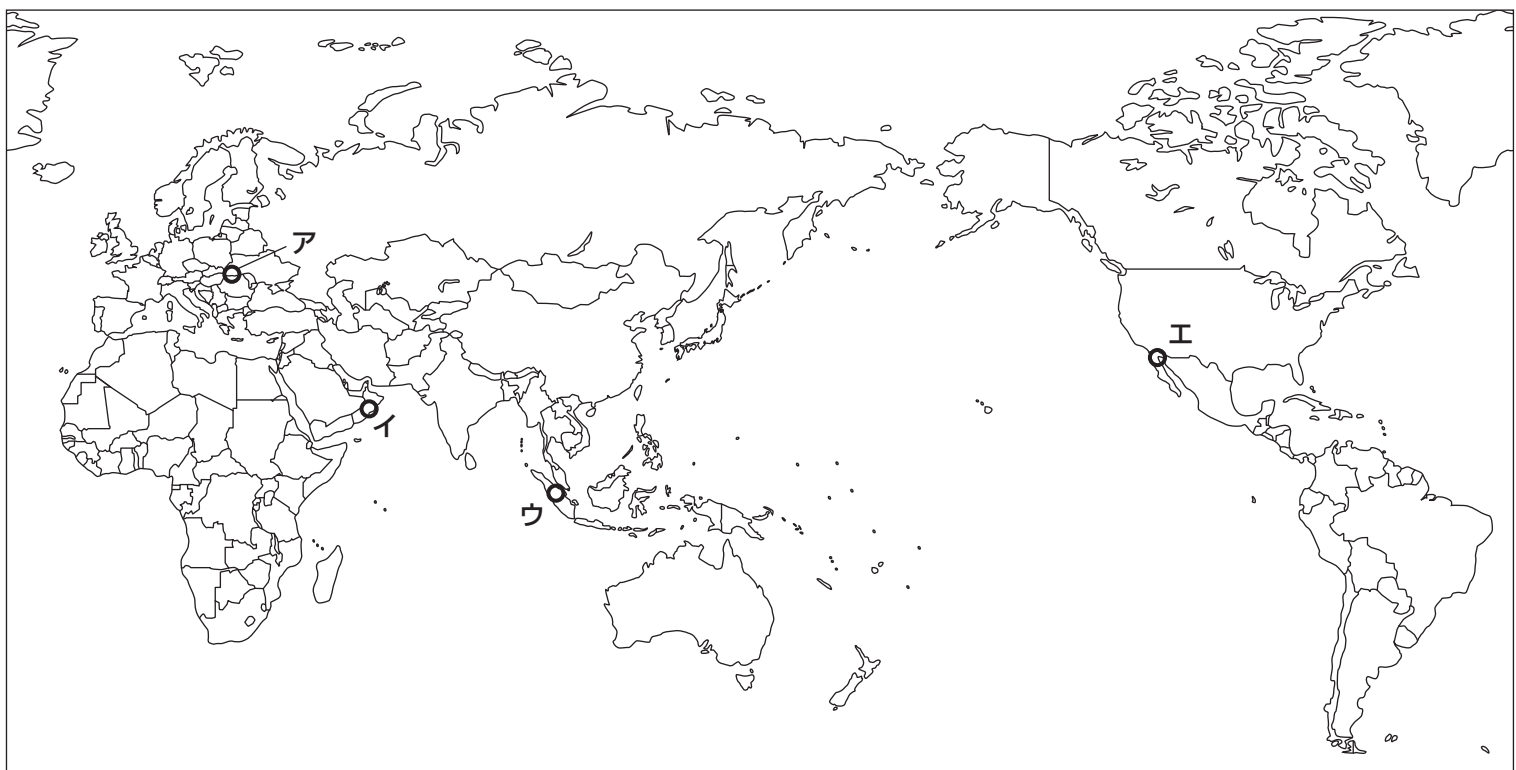


図2

# 社 会

問5 下線部⑤に関連して、九州新幹線は営業キロ (距離) が約257kmです。九州新幹線の営業キロと最も近いものを、次のア～エから1つ選び、記号で答えなさい。

- ア 東北新幹線      イ 東海道新幹線      ウ 上越新幹線      エ 山陽新幹線

問6 表中の ( ☆ ) にあてはまる地理的な事項を、次のア～エから1つ選び、記号で答えなさい。

- ア 島の数が500以上ある      イ 世界文化遺産がある  
ウ 人口が100万人以上いる      エ 県名と県庁所在地名が異なる

問7 下線部⑥について、いちごは全国各地で生産されています。次の表2は、いちごの生産をおこなっている県とそこで生産されているブランドいちごをまとめたものです。この表を分析し、解答らんにある東京都・愛知県のいずれかに○をつけたうえで、あなたが選んだ都県のブランドいちごを命名しなさい。また、生まれたそのブランドの由来を説明しなさい。表の分析をふまえたブランドについてのみ、正答とします。

表2


| 県名  | ブランドいちご |
|-----|---------|
| 秋田県 | こまちベリー  |
| 山形県 | 花笠おとめ   |
| 奈良県 | 古都華     |
| 香川県 | さぬきひめ   |

問8 下線部⑦について、次の表3は東京都中央卸売市場において、6月と12月に取引扱われた夏野菜のピーマンの産地上位3県を示したもので、写真は資料中の< の県や高知県でおこなわれているピーマンの栽培の様子です。表3と写真を参考に、夏と冬のピーマンの生産状況について60字以内で答えなさい。

表3

| 6月  |           | 12月 |           |
|-----|-----------|-----|-----------|
| 県名  | 取扱数量 (kg) | 県名  | 取扱数量 (kg) |
| 茨城県 | 1,849,328 | <   | 596,219   |
| 高知県 | 186,114   | 茨城県 | 573,940   |
| <   | 124,212   | 高知県 | 218,901   |

統計年次は2022年  
東京都中央卸売市場「市場統計情報」により作成



# 社 会

問9 下線部⑧について、資料中のいの県はのりの養殖量で長らく全国1位になっていましたが、2022年以降の不作により最近兵庫県がいの県を上回っています。いの県の不作の一因となった、次の写真のような現象を何というか、漢字で答えなさい。



問10 下線部⑨に関連して、次の表4は乳用牛・ふた・採卵鶏の主な産地を都道府県別に並べ、上位5都道府県を示したものです。表4中のX～Zにあてはまる畜産物の組み合わせとして正しいものを、あとのア～カから1つ選び、記号で答えなさい。ただし、表4中のえ・き・くは、資料にある九州・沖縄地方の県を示しています。

表4

| X     |           | Y     |         | Z     |           |
|-------|-----------|-------|---------|-------|-----------|
| 都道府県名 | 飼育頭数      | 都道府県名 | 飼育頭数    | 都道府県名 | 飼育頭数      |
| え     | 1,199,000 | 茨城県   | 15,142  | 北海道   | 846,100   |
| く     | 764,200   | 千葉県   | 12,837  | 栃木県   | 54,800    |
| 北海道   | 727,800   | え     | 11,731  | き     | 43,600    |
| 群馬県   | 604,800   | 広島県   | 9,926   | 岩手県   | 40,100    |
| 千葉県   | 582,500   | 愛知県   | 9,750   | 群馬県   | 33,600    |
| 全国    | 8,949,000 | 全国    | 180,096 | 全国    | 1,371,000 |

統計年次は2022年

『データで見る県勢2023』により作成

|   | X   | Y   | Z   |
|---|-----|-----|-----|
| ア | 乳用牛 | ふた  | 採卵鶏 |
| イ | 乳用牛 | 採卵鶏 | ふた  |
| ウ | ふた  | 乳用牛 | 採卵鶏 |
| エ | ふた  | 採卵鶏 | 乳用牛 |
| オ | 採卵鶏 | 乳用牛 | ふた  |
| カ | 採卵鶏 | ふた  | 乳用牛 |

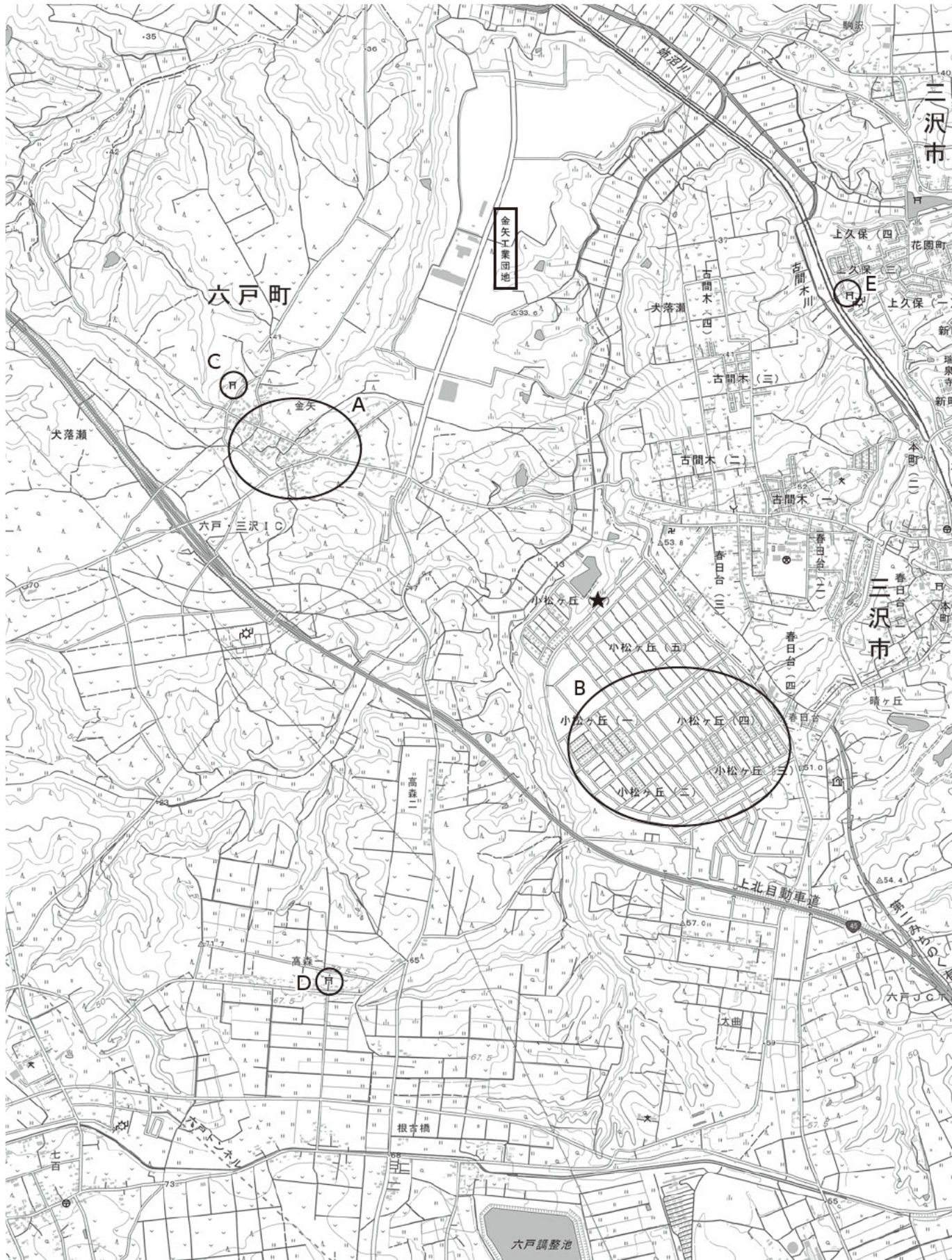
問11 資料中のあ・え・きの県で指定されている伝統的工芸品として正しいものを、次のア～クからそれぞれ1つずつ選び、記号で答えなさい。

- |                        |                        |          |                            |
|------------------------|------------------------|----------|----------------------------|
| ア 伊万里・有田焼              | イ 久留米 <sup>がすり</sup> 餅 | ウ 別府竹細工  | エ 都城 <sup>みやこのじょう</sup> 大弓 |
| オ 天草 <sup>とう</sup> 陶磁器 | カ 久米島 <sup>つむぎ</sup> 紬 | キ 長崎べっこう | ク 薩摩 <sup>さつま</sup> 焼      |



# 社 会

2 次の地形図は、青森県のある地域を示したものです。この地形図をみて、あとの問1～問5に答えなさい。



「地理院地図」により作成 (一部改変)

## 社 会

問1 地形図の縮尺について、解答らんにあてはまるように数字で答えなさい。

問2 地形図から読み取れることとして正しいものを、次のア～エから1つ選び、記号で答えなさい。

- ア Bの住宅地は、Aの住宅地より古いと考えられる。
- イ 高等学校はみられるが、老人ホームはみられない。
- ウ 神社C～Eのうち、Dの神社の標高が最も高い。
- エ 古間木は、三角州のなかにつくられた町と考えられる。

問3 地形図中の★の地点における緯度・経度の組み合わせとして正しいものを、次のア～エから1つ選び、記号で答えなさい。

- ア 北緯40度40分・東経141度20分      イ 北緯40度40分・東経136度20分
- ウ 北緯38度40分・東経141度20分      エ 北緯38度40分・東経136度20分

問4 地形図にある六戸町の「ふるさと納税」の返礼品に考えられるものとして正しいものを、次のア～エから1つ選び、記号で答えなさい。

- ア オホーツク海の流水      イ みかんのゼリー      ウ ムツゴロウの蒲焼き      エ ヒバのまな板

問5 地形図にある金矢工業団地は、立地条件の良さからこの場所に設けられた。工業団地が設けられた理由として考えられることを、地形図を参考にしながら15字以内で2つ答えなさい。



## 社 会

- 3 さくらさんは社会科の自由研究で「人々の移動・交流」に関連することがらについてまとめました。さくらさんがまとめた表を見て、あとの問1～問19に答えなさい。

| 時 代                       | 人々の移動・交流   |
|---------------------------|--|
| ①縄文時代                     | 青森県の三内丸山遺跡 <sup>せき</sup> では、最大で約500人が暮らしていたとみられています。【 I 】ため、遠方との交流もあったと考えられています。   |
| 弥生時代 <sup>やよい</sup>       | ②中国の歴史書には、邪馬台国の女王が中国に使いを送ったので、皇帝は倭王 <sup>てい わ</sup> の称号 <sup>あ</sup> を与え、銅の鏡などを授けたと記されています。  |
| 古墳時代 <sup>ふん</sup>        | 古墳がつくられはじめたころ、中国や朝鮮半島での争いをのがれ、日本に移り住む渡来人が多くいました。③渡来人は大陸の先進的な文物を日本に伝えました。   |
| 飛鳥時代                      | 中国にわたった留学生たちは、新しい知識を学んで帰国したのち、中大兄皇子 <sup>なかのおえのおうじ</sup> や中臣鎌足 <sup>なかとみのかまたり</sup> らが進める④大化の改新を支えました。   |
| 奈良時代                      | ⑤中国(唐)にならって律令がつくられると、各地の農民は、税として稲や地方の特産物を納める他にも、都の工事で働いたり、兵士として都や⑥九州の守りについたりしました。  |
| 平安時代                      | 武士の中には、武芸を認められて朝廷や貴族に仕える者も現れました。とくに勢いが強かった源氏と⑦平氏は、朝廷の命令で地方の反乱をしずめるなどして、源氏は東国に、平氏は西国に勢力を伸ばしていきました。  |
| 鎌倉時代                      | 13世紀に中国を支配したモンゴル人は、日本を従えようと何度か使者を送ってきました。8代執権の【 II 】はこの要求を退け、モンゴル人との戦いに備えました。  |
| ⑧室町時代 <sup>むろまち</sup>     | 備中(岡山県)で生まれた雪舟 <sup>せつしゅう</sup> は、京都の寺ですみ絵を学んだあと、周防(山口県)に移り住みました。やがて中国にわたって各地で本格的な水ぼう画にふれ、研究を重ねながら修行にはげみました。                                   |
| 安土桃山時代 <sup>あづちももやま</sup> | 4人の日本人少年が、イタリア人宣教師のバリニャーノとともに長崎を出港し、ローマ教皇のもとへ向かいました。かれらはヨーロッパ各地の人々に歓迎され、⑨1590年に帰国したあとは、キリスト教の布教に取り組みました。                                       |
| 江戸時代 <sup>えど</sup>        | 参勤交代の制度のもとで街道や宿場が発達し、それを利用して伊勢神宮や善光寺などにお参りする人々が増えるといったように、全国的にも人や物が移動する社会になりました。⑩伊能忠敬 <sup>いのうただたか</sup> のように、幕府の命令を受けて、全国を測量しながら旅をする人物も現れました。 |
| ⑪明治時代 <sup>めいし</sup>      | ⑫19世紀後半、欧米諸国はアジアの国々に進出し、工場や鉄道などをつくって大きな利益を得ようとしてきました。日本も朝鮮に勢力を広げようとしてきましたが、朝鮮をめぐる中国との対立が深まっていきました。   |
| ⑬大正時代 <sup>たいし</sup>      | ヨーロッパで第一次世界大戦が起こると、日本もこの戦争に加わり、ヨーロッパに軍艦を派遣するなどして戦勝国の一つとなりました。戦争中に、日本の重化学工業は急速に成長し、輸出が増えて好景気になりました。   |
| ⑭昭和時代 <sup>しやうわ</sup>     | 明治時代からはじまった修学旅行は、時代が戦争へと向かっていく中で、しだいに中止されていきました。しかし、戦後復興の進展とともに再開され、⑮1950年代には、全国の中学校の約90%で修学旅行が実施されました。  |
| ⑯平成時代 <sup>へいせい</sup>     | 世界の一体化が進むとともに、地球の問題を各国が協力して解決していくことが目指されるようになりました。1997年には【 III 】で地球温暖化防止会議が開かれ、温室効果ガスを将来どのくらい削減 <sup>さくく</sup> するかが決められました。                    |



## 社 会

問1 下線部①について、この時代について述べた文として誤っているものを、次のア～エから1つ選び、記号で答えなさい。



- ア 土器の発明で料理方法が変わり、人々の食生活は豊かなものになった。
- イ 土地や水をめぐる争いにそなえて、集落はほりや柵で囲まれていた。
- ウ 石や動物の骨などから道具をつくって、狩りや採集をしてくらしていた。
- エ 地面をほって平らにし、柱を立てた上に屋根をかけた住居に住んでいた。

問2 表中の【 I 】にあてはまる説明を答えなさい。

問3 下線部②について、邪馬台国について記されている歴史書として正しいものを、次のア～エから1つ選び、記号で答えなさい。

- ア 『風土記』
- イ 『後漢書』
- ウ 『古事記』
- エ 『魏志』

問4 下線部③について、この時代に大陸から日本に先進的な文物が伝わったことを示す資料として適当なものを、次のア～エから1つ選び、記号で答えなさい。



問5 下線部④について、大化の改新について述べた次の i・ii の文が正しいか誤っているかを判断し、i・ii の両方が正しい場合はア、i が正しく ii が誤っていればイ、i が誤りで ii が正しい場合はウ、i・ii の両方が誤っていればエと答えなさい。

- i 各地の豪族が、それまで通りそれぞれの支配地を治めるという方針が示された。
- ii 最初の本格的な都である藤原京が築かれたあと、大化の改新がおこなわれた。

問6 下線部⑤について、8世紀の中国(唐)と日本の関係についての説明として正しいものを、次のア～エから1つ選び、記号で答えなさい。

- ア 朝廷の願いに応じて、危険な航海を乗り越えて唐から鑑真が来日した。
- イ 唐から日本に渡った人々によって、はじめて仏教が伝えられた。
- ウ 内乱の影響で唐の力が衰えていったため、遣唐使の派遣が停止された。
- エ 唐の進んだ文化などを取り入れるために、小野妹子が派遣された。

# 社 会

問7 下線部⑥について、次の歌は、九州の守りにあたった兵士が残したものです。このような兵士を何というか、漢字2字で答えなさい。

着物のすそにとりすがって泣く子どもたちを、わたしは、家においてきてしまった。あの子どもたちには母親がいないが、今どうしているのだろうか。

問8 下線部⑦について、平清盛たいらのきよもりの政治ちやうの特徴について述べた次の i・ii の文が正しいか誤っているかを判断し、i・ii の両方が正しければア、i が正しく ii が誤っていればイ、i が誤りで ii が正しければウ、i・ii の両方が誤っていればエと答えなさい。

- i むすめを天皇のきさきにして、生まれた子を天皇に立てるなど、貴族的性格を持っていた。
- ii 家臣の領地の所有を認めることで、主従関係を築くなど、武士的性格を持っていた。

問9 表中の【 II 】にあてはまる人物を漢字で答えなさい。

問10 下線部⑧について、この時代の人々の暮らしに関する文として、次の i～iii の文が正しいか誤っているかを判断し、その正誤の組み合わせとして正しいものを、あとのア～カから1つ選び、記号で答えなさい。

- i 田植えのときに豊作をいのっておどられた田楽などは、やがて能や狂言きやうとして広まっていった。
- ii 書院造の建築の庭には、石や砂を用いて滝たきや水面を表現する石庭がつくられるようになった。
- iii 農業書を読む力を身につけた農民が増え、おもに商品作物を栽培して生計をたてていた。

|   | i | ii | iii |
|---|---|----|-----|
| ア | 正 | 正  | 誤   |
| イ | 正 | 誤  | 正   |
| ウ | 正 | 誤  | 誤   |
| エ | 誤 | 正  | 正   |
| オ | 誤 | 正  | 誤   |
| カ | 誤 | 誤  | 正   |

問11 下線部⑨について、この年に豊臣秀吉とよとみひでよしは全国を統一しました。秀吉が全国支配を確立するためにおこなった刀狩や太閤検地の目的を答えなさい。

問12 下線部⑩について、江戸時代の文化について説明した文として誤っているものを、次のア～エから1つ選び、記号で答えなさい。

- ア 徳川家光とくがわいみづにより、家康いえやすをまつる日光東照宮が大規模に建て直され、幕府の力が示された。
- イ オランダ商人により、日本にパンやカルタなどのヨーロッパの文化が伝来し、人々の間に広められた。
- ウ 大都市の町人により、歌舞伎かぶきや浮世絵うきなどが人々の楽しみとして広められ、町人中心の文化が生み出された。
- エ 杉田玄白すぎたげんぱくにより、オランダ語で書かれた人体解剖書ぼうが翻訳され、『解体新書ほん』として出版された。

# 社 会

問13 下線部⑪について、次の文章は明治時代に活躍した人物についてさくらさんがまとめたものです。その人物として正しいものを、あとのア～エから1つ選び、記号で答えなさい。

江戸時代の終わりに中津藩 (大分県) の下級武士の家に生まれました。幕末には、幕府の使節に同行して海をわたり、ヨーロッパやアメリカで見聞きしたことをもとに『西洋事情』という本を出版しました。教育者としても活躍し、学問をすることで身を立てていくべきだと主張しました。

- ア いわくらともみ  
岩倉具視
- イ のちひでよ  
野口英世
- ウ ふくざわゆきち  
福沢諭吉
- エ しぶさわえいち  
渋沢栄一

問14 下線部⑫について、19世紀後半のできごとについて述べた次の i・ii の文が正しいか誤っているかを判断し、i・ii の両方が正しければア、i が正しく ii が誤っていればイ、i が誤りで ii が正しければウ、i・ii の両方が誤っていればエと答えなさい。

- i いとうひろふみ 伊藤博文を中心に、ドイツの憲法などを参考にして憲法づくりが進められ、天皇が国民にあたえるという形で大日本帝国憲法が公布された。
- ii かい 日清戦争の結果に警戒を強めたロシアが、フランスとイギリスとともに、リヤオトン半島を清に返還するように日本に要求した。

問15 下線部⑬について、この時代の日本について説明した文として正しいものを、次のア～エから1つ選び、記号で答えなさい。

- ア 成人女性の選挙権が認められた。
- イ 生糸の輸出量が世界第1位となった。
- ウ 男女ともに小学校就学率が90%を超えた。
- エ 米の安売りを求める運動が全国的に起こった。

問16 下線部⑭について、この時代のできごとを表した次の資料 I～III を、時代の古いものからならべたものとして正しいものを、あとのア～カから1つ選び、記号で答えなさい。

I しゅう 空襲を受けた東京のまち



II しんじゆわんこうげき 真珠湾攻撃



III 国際連盟で演説する日本代表



- ア I-Ⅱ-Ⅲ
- イ I-Ⅲ-Ⅱ
- ウ Ⅱ-I-Ⅲ
- エ Ⅱ-Ⅲ-I
- オ Ⅲ-I-Ⅱ
- カ Ⅲ-Ⅱ-I

# 社 会

問17 下線部⑮について、1950年代に発生した戦争と、その戦争が日本に与えた影響についての説明の組み合わせとして正しいものを、次のア～エから1つ選び、記号で答えなさい。

|   | 戦争の名前  | 日本に与えた影響                                   |
|---|--------|--|
| ア | 朝鮮戦争   | 連合軍司令部の指令によって、今の自衛隊のもとになる警察予備隊がつけられた。      |
| イ | 朝鮮戦争   | ソ連が大量の物資を日本に注文したため、日本の産業は活気づいて経済が立ち直っていった。 |
| ウ | ベトナム戦争 | 連合軍司令部の指令によって、今の自衛隊のもとになる警察予備隊がつけられた。      |
| エ | ベトナム戦争 | ソ連が大量の物資を日本に注文したため、日本の産業は活気づいて経済が立ち直っていった。 |

問18 下線部⑯について、さくらさんがまとめた平成時代のできごとに関する次の文章中の ( i ) ~ ( iii ) にあてはまる語句や文の組み合わせとして適当なものを、あとのア～カから1つ選び、記号で答えなさい。

日本は世界的に見ても地震が起りやすい国として知られます。1995年に発生した ( i ) は直下型の大地震で、朝早い時間帯に発生したこともあり、寝ていた人たちが家具の下敷きになるなど大きな被害を出しました。被災した地域には、国内外から多くのボランティアが支援のために集まりました。

世界の一体化が進む一方で、21世紀に入っても、世界では民族や宗教などをめぐる対立が続いています。日本は平和で豊かな世界の実現のために、国際社会の一員としての役割を果たしてきました。たとえば、2003年には、戦争で治安が悪化した ( ii ) の復興支援に自衛隊を派遣しました。ほかにも、( iii ) という特徴をいかして、広島や長崎では毎年式典が開かれ、平和の尊さを日本や世界の人々にうたえ続けています。

|   | i        | ii  | iii             |
|---|----------|-----|-----------------|
| ア | 阪神・淡路大震災 | イラク | 原爆が投下された世界で唯一の国 |
| イ | 東日本大震災   | トルコ | 進んだ学問や技術を持っている国 |
| ウ | 熊本地震     | トルコ | 原爆が投下された世界で唯一の国 |
| エ | 阪神・淡路大震災 | イラク | 進んだ学問や技術を持っている国 |
| オ | 東日本大震災   | イラク | 原爆が投下された世界で唯一の国 |
| カ | 熊本地震     | トルコ | 進んだ学問や技術を持っている国 |

問19 表中の【 Ⅲ 】にあてはまる日本の都市を漢字で答えなさい。



# 社 会

4 次の文章を読んで、あとの問1～問6に答えなさい。

①国際連合憲章前文

われら連合国の人民は、われらの一生のうち二度まで言語に絶する悲哀を人類に与えた戦争の惨害から②将来の世代を救い、③基本的人権と④人間の尊厳及び価値と男女及び大小各国の同権とに関する信念を改めて確認し、……⑤国際の平和および安全を維持するためにわれらの力を合わせ、……⑥すべての人民の経済的及び社会的発達を促進するために国際機構を用いることを決意して、これらの目的を達成するために、われらの努力を結集することに決定した。

問1 下線部①について、国際連合について述べた次の i・ii の文が正しいか誤っているかを判断し、i・ii の両方が正しければア、i が正しく ii が誤っていればイ、i が誤りで ii が正しければウ、i・ii の両方が誤っていればエと答えなさい。

- i 第二次世界大戦が終戦した後に、スイスのジュネーブに本部を置いて設立された。
- ii 世界の人々の健康の維持と増進を目的とするWHOは、COVID-19の感染拡大防止のために尽力した。

問2 下線部②について、将来の世代のために、国際連合は「持続可能な開発目標 (SDGs)」を設定しました。目標達成に向けた取り組みとして適当でないものを、次のア～エから1つ選び、記号で答えなさい。

- ア 「貧困をなくそう」を実現するために、募金活動に積極的に参加するようにしている。
- イ 「ジェンダー平等を実現しよう」を実現するために、女性の育児休暇取得を義務化する。
- ウ 「海の豊かさを守ろう」を実現するために、ビニール袋は受け取らないようにしている。
- エ 「陸の豊かさを守ろう」を実現するために、ペーパーレス化を推進する。

問3 下線部③について、日本国憲法が保障している国民の権利として適当でないものを、次のア～エから1つ選び、記号で答えなさい。

- ア 政治に参加する
- イ 子どもに教育を受けさせる
- ウ 裁判を受ける
- エ 働く人が団結する

問4 下線部④について、国際連合で先住民族の権利に関する宣言が採択されたことで、日本はアイヌ政策について検討し、アイヌ文化の復興・創造・発展のための拠点<sup>きょ</sup>を北海道白老町<sup>しらおい</sup>に設立しました。この施設の名称をカタカナで答えなさい。

問5 下線部⑤について、国際連合による平和のための活動について説明した次の文章を読んで、【 】にあてはまる適当な語句をアルファベット大文字3字で答えなさい。

国際連合は、争いが起こっている地域などで、争いの停止を監視したり、公正な選挙を実施したりするために、加盟国の軍隊や警察などを派遣しています。このような活動のことを【 】と言い、日本の自衛隊もこの活動に参加しており、カンボジアなどさまざまな地域で活動してきました。

問6 下線部⑥について、日本国民の医療や年金などを充実させるための政策を扱っている省庁として正しいものを、次のア～エから1つ選び、記号で答えなさい。

- ア 厚生労働省
- イ 経済産業省
- ウ 総務省
- エ 消費者庁

# 社会解答用紙



240106-20

↓ここにシールを貼ってください↓

|  |
|--|
|  |
|--|

|      |    |
|------|----|
| 受験番号 | 氏名 |
|      |    |

※のらんには何も書かないこと。

|     |    |           |     |     |   |  |
|-----|----|-----------|-----|-----|---|--|
| 1   | 問1 | (1)       | (2) | (3) | ※ |  |
|     | 問2 |           |     |     |   |  |
|     | 問3 | 1つ目       |     |     |   |  |
|     |    | 2つ目       |     |     |   |  |
|     | 問4 |           | 問5  | 問6  |   |  |
|     | 問7 | 東京都 ・ 愛知県 | 命名  |     |   |  |
|     | 問8 |           |     |     |   |  |
|     |    |           |     |     |   |  |
|     |    |           |     |     |   |  |
|     | 問9 |           | 問10 |     |   |  |
| 問11 | あ  | え         | き   |     |   |  |

|     |    |     |    |    |   |  |
|-----|----|-----|----|----|---|--|
| 2   | 問1 | 分の1 | 問2 | 問3 | ※ |  |
|     | 問4 |     |    |    |   |  |
|     | 問5 | 1つ目 |    |    |   |  |
| 2つ目 |    |     |    |    |   |  |

|   |     |     |     |  |  |   |
|---|-----|-----|-----|--|--|---|
| 3 | 問1  | 問2  |     |  |  | ※ |
|   | 問3  | 問4  |     |  |  |   |
|   | 問6  | 問7  | 問8  |  |  |   |
|   | 問9  | 問10 |     |  |  |   |
|   | 問11 |     |     |  |  |   |
|   | 問12 | 問13 | 問14 |  |  |   |
|   | 問15 | 問16 | 問17 |  |  |   |
|   | 問18 | 問19 |     |  |  |   |

|   |    |    |    |   |
|---|----|----|----|---|
| 4 | 問1 | 問2 | 問3 | ※ |
|   | 問4 | 問5 | 問6 |   |

※

|  |
|--|
|  |
|--|