

2024年度 入学試験問題  
(仙台・東京・東海・高松会場)

社 会

(50分)

〔注意〕

- ① 問題は①～④まであります。
- ② 解答用紙はこの問題用紙の間にはさんであります。
- ③ 解答用紙には受験番号、氏名を必ず記入のこと。
- ④ 各問題とも解答は解答用紙の所定のところへ記入のこと。

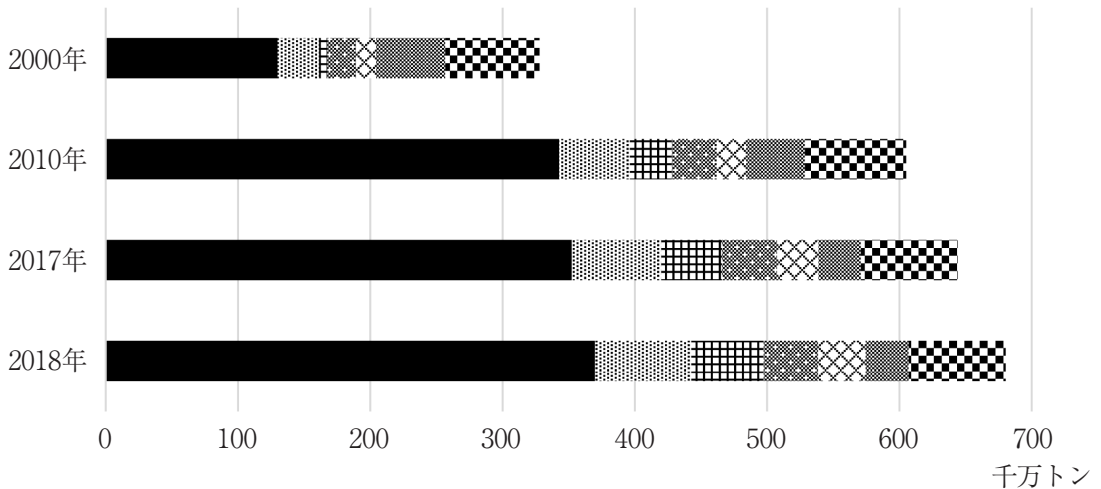
西大和学園高等学校



問題は次のページから始まります。

**1** 電気代が高騰しているというニュースをきっかけに、ヤマトさんたちは、世界のエネルギーについて考えた。この探究に関する次の問1～問6に答えよ。

**問1** ヤマトさんたちは、石炭の産出について調べ、いくつかの国について次の図1のようにまとめた。図1は、世界の石炭産出量の推移を主要産出国別に示したものである。図1から読み取れることがらやその背景などについてまとめた、あとの文章中の下線部ア～エのうちから、適当でないものを1つ選び、記号で答えよ。



■中国 ■ インド ■ インドネシア ■ オーストラリア ◊ ロシア ■ アメリカ ■ その他

『世界国勢図会 2021 / 2022』により作成

図1

世界の石炭産出量は、ア2000年から2010年にかけて増大している。これはイ中国などの新興国の経済成長に伴って消費が拡大したことが影響している。また、ウ2010年以降は、中国とインドの2か国で、世界の石炭産出量の半分以上を占めるまでになっている。中国とインドで産出された石炭の大半は、国内で消費され、輸出に回される量は少ない。また、エアメリカとオーストラリアでは、輸出量増加を背景に、増産が続いている。

問2 ヤマトさんたちは、鉱産資源の分布は偏っていることが多く、地質や気候環境とも関係があるという事を調べた。次の図2は、北半球高緯度地域における、いくつかの鉱産資源の主な産出地域を示したものであり、ア～エは石油、ダイヤモンド、鉄鉱石、銅のいずれかである。鉄鉱石に該当するものを、あとのア～エのうちから1つ選び、記号で答えよ。



- ア ■
- イ ▲
- ウ ◆
- エ ○

図2

問3 ヤマトさんたちは、エネルギー供給の変化について次の資料1を作成した。資料1を見てヤマトさんたちが話し合った次ページ会話文中の下線部ア～エのうちから、誤りを含むものを1つ選び、記号で答えよ。

資料1  
人類のエネルギーの歴史について

原始人が調理などに利用		家畜は農耕などで利用	水力や風力などの自然エネルギーが効率的に使われるように	産業革命期にエネルギー消費の中心は石炭へ	1960年頃にエネルギー革命が進行
-------------	--	------------	-----------------------------	----------------------	-------------------

世界のエネルギー消費量の推移

帝国書院2017『新詳地理B』により作成

- ヤマト 最初の火の発見は、落雷や火山の噴火による自然火災によってもたらされたものだと考えられているらしいね。
- ニ シ そうなんだ。家畜エネルギーはどんな種類の家畜を利用していたんだろう。
- ヤマト 地域によって様々で、ア東アジアや南アジアでは馬やヤク、アンデス地方ではリャマやアルパカ、北アフリカではラクダなどが利用されてきたよ。
- ニ シ 産業革命の頃までは畜力の他、水力や風力などの再生可能エネルギーの利用が多かったんだね。
- ヤマト そうだね。でも、産業革命期になると、イ蒸気機関が発明されたことで石炭がエネルギーの中心になったんだ。
- ニ シ ウ石炭は、可採埋蔵量を年間産出量で割った可採年数が化石燃料の中で最も長くて、石油に比べると地域的な偏りが少ないね。
- ヤマト 1960年代以降は、熱効率の良い石油の消費が急増していて、石炭の消費量を上回ってきているね。
- ニ シ 1980年代には石油の消費量が減少している時期があるようにみえるけど、これはどうしてかな。
- ヤマト それは、エ1980年代に起きた石油危機で原油価格が高騰したことが影響しているんじゃないかな。

問4 ヤマトさんたちは、世界的に再生可能エネルギーの導入が進められていることを知り、日本の再生可能エネルギーの発電所数について、次の表1にまとめた。表1に関する(1)・(2)の問いに答えよ。

表1

	A	B	C	D	バイオマス発電
北海道	98	35	123	1	3
東北	256	99	439	6	11
関東	161	19	852	0	16
中部	700	44	397	0	7
近畿	105	32	509	0	7
中国・四国	237	38	747	0	11
九州・沖縄	200	44	753	7	18
全国	1757	311	3820	14	73

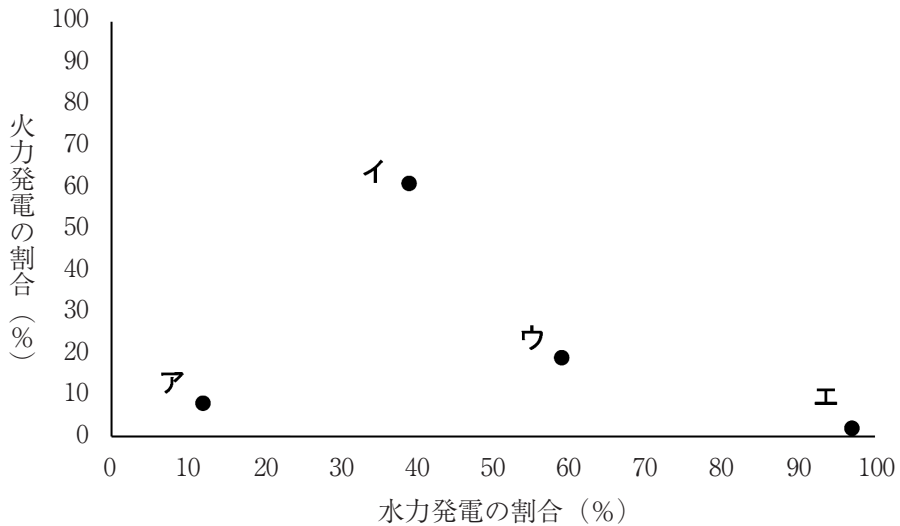
統計年次は2020年

『世界国勢図会 2022 / 2023』により作成

- (1) 表1中のA～Dは、水力発電、太陽光発電、地熱発電、風力発電のいずれかである。BとDに当てはまるものをそれぞれ答えよ。また、Dをそのように判別した理由を簡潔に答えよ。
- (2) バイオマスは、大気中の炭素を取り込んだ植物が原料なので、燃焼させても理論上、大気中の二酸化炭素濃度の増減に影響を与えないという考え方がある。このような考え方を何というか、カタカナで答えよ。



問5 ヤマトさんたちは、世界のいくつかの国における火力発電と水力発電の割合について調べた。次の図3のア～エは、カナダ、ノルウェー、フランス、ベトナムのいずれかである。ノルウェーとフランスに該当するものを、図3中のア～エのうちからそれぞれ選び、記号で答えよ。また、そのように判別した理由をそれぞれ簡潔に答えよ。



統計年次は2020年

『世界国勢図会 2022 / 2023』により作成

図3

問6 ヤマトさんたちは、これからの時代のエネルギー政策について調べていると、次の図4のようなイラストをみつけた。このイラストに表されるような、資源投入量・消費量を抑えつつ、天然資源の消費を抑制し、環境への負荷が低減される社会モデルのことをなんというか、解答欄に合うように答えよ。



図4

**2** 次の文章は2020年12月に発表された、大阪で2025年に開催される日本国際博覧会（略称「大阪・関西万博」）の基本計画の「はじめに」を抜粋（一部改変）したものである。この文章を読んで、あとの問1～問6に答えよ。

本書は万博の開催に必要な事業とその方針について策定した全体の計画である。

この基本計画を発行した2020年は、①新型コロナウイルス感染症（COVID-19）が猛威を振るい、人類は未曾有の危機に直面することとなった。世界中で多くの命が失われ、経済も激しいダメージを受け、先行きの見えない不安感が世界を覆い包んだ。

世界が等しく経験した災禍により、国家や人々の交流の分断、社会を取り巻く環境や様々な社会制度の再構築、価値観や生活様式の変化等、②新たな課題にも私たちは直面することとなった。しかしながら、こうした状況だからこそ、世界の知恵を結集し、速やかに解決へと導くことが求められている。

大阪・関西万博のテーマ「【 A 】輝く未来社会のデザイン」について考え、行動することは、まさにこの時代を生きる我々に課せられた使命となった。2030年をゴールとする③持続可能な開発目標（SDGs）への取組は、世界共通の課題の解決を目指すものであり、本万博を開催する意義である。

（中略）

1970年、アジア初の国際博覧会開催となった日本万国博覧会（大阪万博）では、④第2次世界大戦の焼け跡から高度経済成長を成し遂げたことを背景に、当時の最先端技術の展示を行い、技術がもたらす豊かな明日を示し、来場者に強烈なインパクトを与えた。その後の「自然と人間との共生」をテーマにした1990年国際花と緑の博覧会、「自然の叡智」をテーマにした

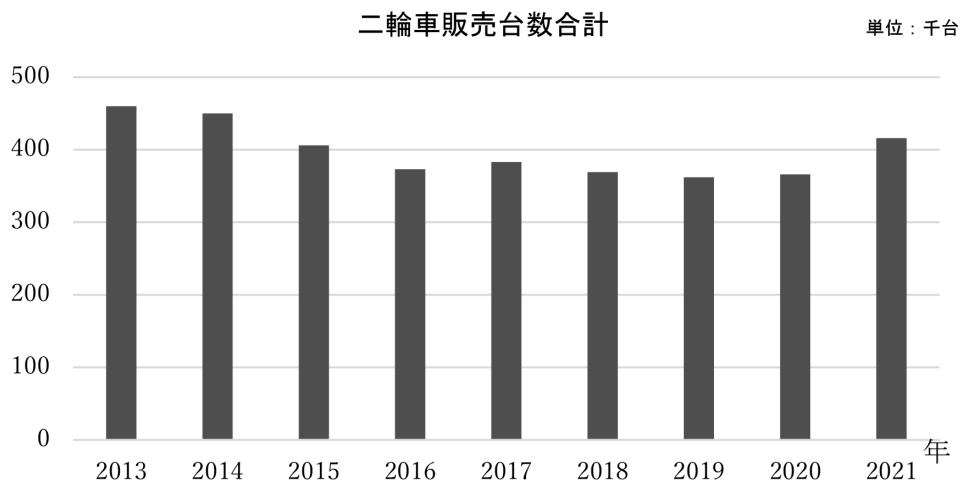
2005年日本国際博覧会（愛・地球博）等、日本で開催した国際博覧会はその時代の課題に向き合い、世界と共に解決を目指してきた。

2025年大阪・関西万博は、この時代に、【 A 】をテーマに掲げる万博として、⑤世界が一つの「場」に集う機会となる。本万博を契機として世界の多様な価値観が交流しあい、新たなつながりや創造を促進していく。世界的な危機を乗り越え、生き方を見つめ直すことで、未来への希望を世界に示す万博となることを目指す。

「基本計画」（公益社団法人2025年日本国際博覧会協会2020年12月）により作成

問1 文章中【 A 】にあてはまる語句を答えよ。

問2 下線部①に関して、2020年は世界中で消費が落ち込み、様々な市場が縮小傾向を見せたが、一方で拡大した市場もある。次の図1は、日本における二輪車（バイク）の国内販売台数の推移である。これによると、新型コロナウイルス感染症の流行以降の2020年と2021年に二輪車（バイク）の販売台数がわずかに増加している。二輪車（バイク）の販売台数が増加している理由を、日本で生まれた新たな需要に着目して、30字以内で説明せよ。



「一般社団法人 日本自動車工業会」ホームページにより作成

図1

問3 下線部②に関して、コロナ禍の社会において、保健所の役割が注目された。保健所について述べた文として適当でないものを、次のア～エのうちから1つ選び、記号で答えよ。

- ア 地域の医療機関や市町村保健センター等の活動を調整して地域住民に必要なサービスを提供し、健康危機管理の拠点となる。
- イ 相互扶助の精神に基づき、社会生活上の事故によって生じる生計の破綻<sup>たん</sup>を防止するため、一定基準による給付を行い、生活保障を図る。
- ウ 保健所の規模にもよるが、保健師、医師、薬剤師、獣医師、栄養士、精神保健福祉士などが配置されている。
- エ 難病や精神保健に関する相談、結核・感染症対策、薬事・食品衛生・環境衛生に対する監視指導などの専門性の高い業務を行う。

問4 下線部③に関して、次の図2は、気候変動枠組み条約が削減対象としている、人為的な排出量が二酸化炭素に次いで多い、とある温室効果ガスの世界収支をまとめたものである。このガスの名称を答えよ。

(単位：億トン)

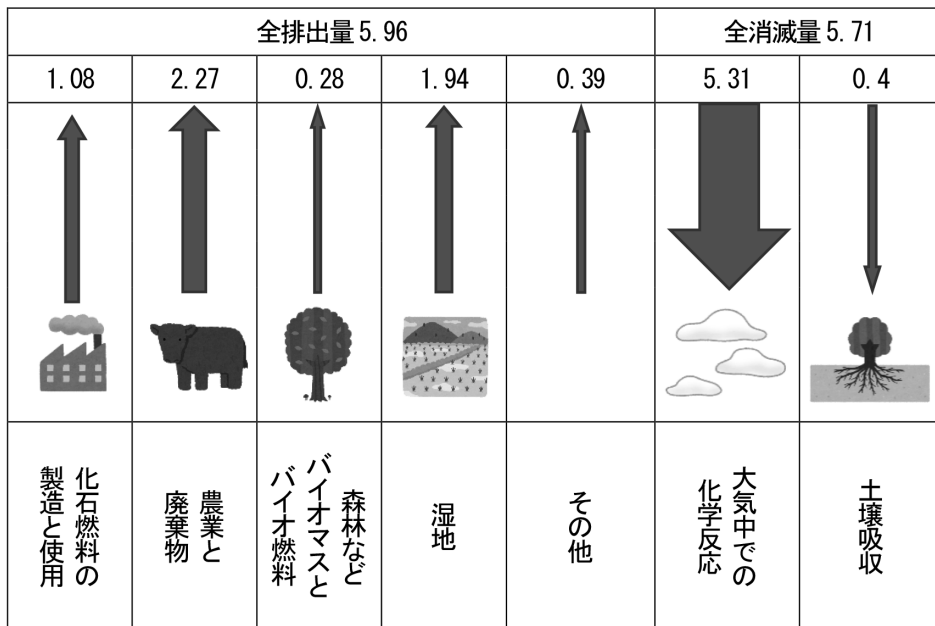


図2

問5 下線部④に関して、次の表1は日本の産業別人口構成の推移を示したものであり、A～Cはそれぞれ、第一次産業人口、第二次産業人口、第三次産業人口のいずれかである。A～Cに該当するものの組み合わせとして正しいものを、あとのア～カのうちから1つ選び、記号で答えよ。

表1

(単位：%)

	1950年	1970年	1990年
A	31.1	47.4	59.1
B	22.5	35.1	33.5
C	46.0	17.3	7.2

総務省統計局ホームページにより作成

	ア	イ	ウ	エ	オ	カ
第一次産業	A	A	B	B	C	C
第二次産業	B	C	A	C	A	B
第三次産業	C	B	C	A	B	A

問6 下線部⑤に関して、次の表2は2019年にアジアとヨーロッパで行われた国際会議開催件数上位国と開催数を示したものである。空欄A・Bにあてはまる国名を答えよ。なお、Bには欧州連合（EU）の本部が置かれている。

表2

	1位	2位	3位	4位	5位
アジア	A (1,205)	韓国 (1,113)	日本 (719)	タイ (345)	中国 (193)
ヨーロッパ	B (1,094)	フランス (665)	スペイン (531)	イギリス (418)	ドイツ (418)

「UIA国際会議統計」により作成

**3** 次のA～Jの文章を読み、あとの問1～問19に答えよ。

A

①平城京は唐の都、長安を手本につくられた。中央の北にある平城宮には、天皇が住む内裏と政治を行う役所がおかれ、各地から都に送られてきた産物を売買するために、東西の市も開かれた。都には約10万人が住み、②貴族の邸宅や大寺院が建てられた。

問1 下線部①について、平城京に都が置かれた時代に関する説明として誤っているものを、次のア～エから1つ選び記号で答えよ。

- ア 壘田永年私財法が定められ、新たな開墾地であればいつまでも自分のものにしてよいと認められた。
- イ 唐から招かれた鑑真によって唐招提寺がつくられ、寺院や僧の制度が整えられた。
- ウ 紀貫之らがまとめた『古今和歌集』などの優れた文学作品が生まれた。
- エ 僧の行基が人々に仏教信仰を広め、大仏づくりに協力した。

問2 下線部②について、都に住む貴族たちの間では文字を使って歌をよむことが教養として重視された。当時の歌集であった『万葉集』をまとめたとされる人物を答えよ。

B

1232年、執権の北条泰時は、御家人の権利や義務などの武士の慣習をまとめた  を制定した。これは、公正な裁判を行うための③武士独自の法で、短期間のうちに各地に広まり、その後の武家政治の基準とされた。

問3 下線部③について、文章B中の  にあてはまる語句と下線部「武士独自の法」の例の組み合わせとして正しいものを、あとのア～エから1つ選び、記号で答えよ。

に入る言葉

- A 御成敗式目      B 武家諸法度

下線部「武士独自の法」の例

- X 分国法      Y 律令

- ア A - X      イ A - Y      ウ B - X      エ B - Y

C

④室町幕府は、しばらく行われていなかった公式の使節を明に派遣した。明は貿易の条件として、倭寇の取りしまりを要求し、幕府はその申し入れに応じた。そして、明から「日本国王」に任命された足利義満は、形式による日明貿易を始めた。正式な貿易船には、明から勘合が与えられたので、勘合貿易とも呼んだ。

問4 Cの文章中のにあてはまる語句を答えよ。

問5 下線部④に関連して述べた次の i・ii の文が正しいか誤っているかを判断し、i・ii の両方が正しければア、i が正しく ii が誤っていればイ、i が誤りで ii が正しければウ、i・ii の両方が誤っていればエと答えよ。

- i 政治は将軍が任命した老中が行い、若年寄が補佐し、三奉行をはじめとする多くの役職が置かれた。
- ii 地方では、守護が国司の権限を吸収し、守護大名として国内の支配をまとめた。

D

⑤キリスト教が広まるにつれて、江戸幕府はスペインやポルトガルによる日本への侵略のきっかけになると考え、1612年に幕領で、翌年には全国でキリスト教を禁止し（禁教）、宣教師を国外へ追放した。さらに、幕府は⑥禁教を徹底し、貿易港を制限した。

問6 下線部⑤について述べた次の I～III について、出来事の古いものから年代順に正しく配列したものを、あとのア～カから1つ選び、記号で答えよ。

- I ルターは、教皇や教会の権威を否定し、「聖書だけが信仰のよりどころである」と説き、宗教改革の口火を切った。
- II アジアで布教していたフランシスコ＝ザビエルがキリスト教を伝えるために日本へ来た。
- III ローマ教皇の呼びかけに応じた西ヨーロッパ諸国の王や貴族が十字軍を組織して、エルサレムを奪い返すことを目指した。

- |   |              |   |              |   |              |
|---|--------------|---|--------------|---|--------------|
| ア | I - II - III | イ | I - III - II | ウ | II - I - III |
| エ | II - III - I | オ | III - I - II | カ | III - II - I |

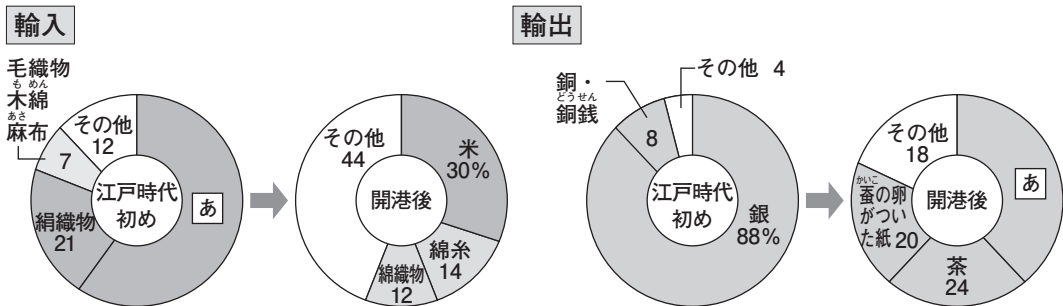
問7 下線部⑥について、幕府が禁教を徹底するために行ったことを次の図を参考にして説明せよ。



E

18世紀末から、日本の沿岸には、ロシアやイギリス・アメリカなどの外国船がひんばんに現れるようになった。なかでもロシアの使節は、1792年と1804年に漂流民をともなって来航し、⑦通商を求めた。幕府はロシアとの通商を断る一方で、⑧蝦夷地を幕領にして、ロシアの南下に備えた。

問8 下線部⑦について、次のグラフは江戸時代の初め（17世紀前半）と開港後（1868～70年の平均）の輸出入の変化を表したものである。江戸初めには主要な輸入品目だった **あ** は開港後には主要な輸出品目へと変化している。この **あ** の品目の名前を答え、江戸時代における **あ** についての説明をあとのX・Yから1つ選び、記号で答えよ。



- X 原材料の栽培が全国に広がり、大阪周辺のほか尾張（愛知）などで織物業が発達した。
- Y 養蚕が各地で行われるようになると、桐生や足利が織物の産地として有名になり、西陣織と並ぶ質の良い製品ができるようになった。



問9 下線部⑧について説明した次の文X～Zが正しいか誤っているかを判断し、その正誤の組み合わせとして正しいものを、あとのア～カから1つ選び、記号で答えよ。

- X アイヌの人々は将軍が代わるごとに通信使とよばれる使節を江戸に派遣し、生糸や木綿を幕府に献上した。
- Y 和人との不利な交易に不満をつのらせたアイヌの人々は、17世紀後半、シャクシャインに率いられ、松前藩と戦ったが敗れた。
- Z 明治政府は開拓使という役所をおき、蝦夷地を北海道と改めて、開拓に従事しながら北海道の防備も担う屯田兵を配置し、これに士族をあてた。

	X	Y	Z
ア	正	正	誤
イ	正	誤	正
ウ	正	誤	誤
エ	誤	正	正
オ	誤	正	誤
カ	誤	誤	正

F

琉球王国は、日清の両方に属する関係を結んでいた。⑨明治政府は1872年に琉球王国を琉球藩とした。さらに日本政府は1879年、軍隊の力を背景に、琉球の人々の反対をおさえ⑩琉球藩を廃止した。

問10 下線部⑨と同時期である1870年代の日本をめぐる外交資料として正しいものを、次のア～エから1つ選び記号で答えよ。

ア

日本の天皇はその子孫に至るまで、現在の樺太島の一部を所領する権利および君主に属する一切の権利をすべてロシア皇帝にゆずり、(中略)宗谷海峡を以て両国の境界とする。

イ

中国政府は、ドイツが山東省に持っている一切の権益を日本に譲る。

ウ

伊豆の下田、松前の函館の両港は、アメリカ船が薪や水、食料、石炭など不足している品を日本で調達するときに限って渡来することを、日本政府は許可する。

エ

日本国と各連合国との間の戦争状態は…この条約が日本国と当該連合国との間に効力を生ずる日に終了する。

問11 下線部⑩について、次の文章中の（ あ ）～（ う ）にあてはまる語句の組み合わせとして正しいものを、あとのア～エから1つ選び、記号で答えよ。

「沖縄」という文字の表記は、17世紀の薩摩の史料にすでにみられるが、新井白石が『島志』で「沖繩」という字をあててから、一般的に使用されるようになったといわれている。明治政府による「琉球藩の廃止」によって、（ あ ）県とされたのは、（ い ）の呼び名が歴史的に中国に属する地域を意味していたからであった。逆に戦後、米軍の統治下におかれた中央政府の名称が「（ う ）政府」となったのは、（ う ）列島に置かれたことに由来するが、本土との分断政策をとっていた米国民政府にとっては、独自の歴史を強調し、沖縄を日本から切り離すためにも都合のよい名称であった。

沖縄歴史教育研究会 新城俊昭『教養講座琉球・沖縄史』より  
設問の都合により内容を一部改めた

	あ	い	う
ア	沖縄	琉球	沖縄
イ	沖縄	琉球	琉球
ウ	琉球	沖縄	沖縄
エ	琉球	沖縄	琉球

G


⑪自由民権運動がしだいにおとろえていったころ、伊藤博文はヨーロッパへ留学して、  
 ⑫君主の権力が強いドイツ（プロイセン）の憲法を中心に調査し、帰国後、憲法草案の作成を始めた。そして、伊藤らが作成した憲法案は枢密院での審議を経て、1889年、天皇が国民に与えるという形で大日本帝国憲法として発布された。

問12 下線部⑪について、自由民権運動について述べた次のⅠ～Ⅲについて、出来事の古いものから年代順に正しく配列したものを、あとのア～カから1つ選び、記号で答えよ。

- Ⅰ 各地の自由民権運動の代表が大阪に集まり、国会期成同盟をつくって国会の開設を政府にせまり、運動は大きく盛り上がった。
- Ⅱ 板垣退助らは早期に国会を開設して、人民の代表を政治に参加させることを求めて、民撰議院（国会）設立建白書を政府に提出した。
- Ⅲ 埼玉県秩父地方では、自由党の影響下で生活に困った農民が武器を持って立ち上がり、地域全体に及ぶ大規模な騒動に発展した。

- |   |       |   |       |   |       |
|---|-------|---|-------|---|-------|
| ア | Ⅰ－Ⅱ－Ⅲ | イ | Ⅰ－Ⅲ－Ⅱ | ウ | Ⅱ－Ⅰ－Ⅲ |
| エ | Ⅱ－Ⅲ－Ⅰ | オ | Ⅲ－Ⅰ－Ⅱ | カ | Ⅲ－Ⅱ－Ⅰ |

問13 下線部⑫について、この風刺画は「 に新年の挨拶をする伊藤博文」と題されたビゴーの作品であり、ドイツの憲法を中心に調査している伊藤博文を風刺している。この にあてはまるドイツ帝国の宰相の名前を答えよ。



に新年の挨拶をする伊藤博文（1888）

H

日清戦争と⑬日露戦争での勝利は、日本の国際的な地位を高めた。また、工業化の進展で生産力が上がり、輸出もさかんになった。こうした状況で、国民は、「欧米諸国の圧力の中で日本の独立を保とうという、開国以来の目標は達成された」と考えた。

問14 下線部⑬に関連して、次の資料1～3は日露戦争後についての風刺画である。この風刺画について説明したあとの文X～Zが正しいか誤っているかを判断し、その正誤の組み合わせとして正しいものを、あとのア～カから1つ選び、記号で答えよ。



資料1 「列強クラブの仲間入り」



資料2 「貧国強兵」



資料3 「成金」

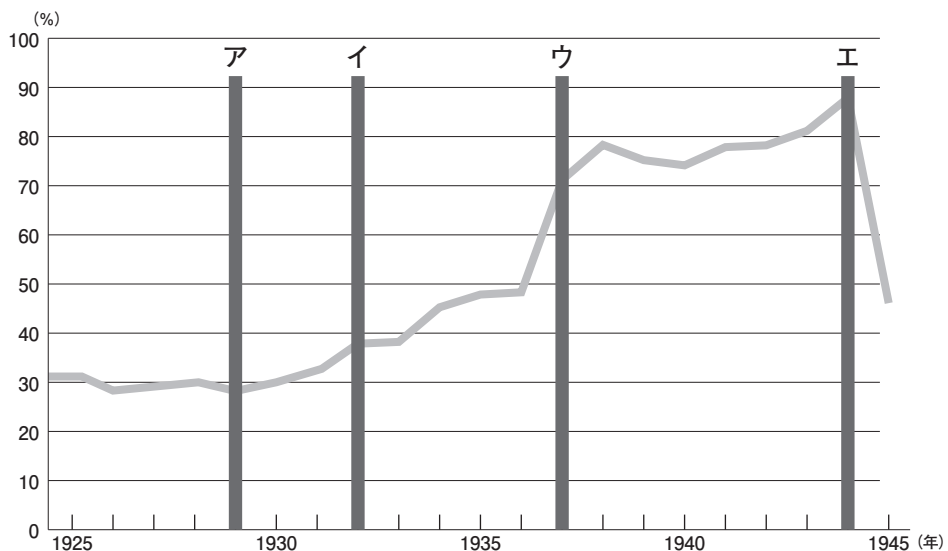
- X 資料1に風刺されているように、日露戦争の勝利は日本を外国に認めさせる結果となった。明治末年には、陸奥宗光外相のもと、領事裁判権の廃止に成功した。
- Y 資料2に風刺されているように、戦争のために軍事費が急増し、それにとまって税金が高くなるなどしたため、人々の生活は向上せず、貧富の差が拡大した。
- Z 資料3に風刺されているように、日露戦争に勝利した直後に、大戦景気とよばれる空前の好景気が訪れ、にわか金持ちになった人が出現し「成金」と呼ばれた。

	X	Y	Z
ア	正	正	誤
イ	正	誤	正
ウ	正	誤	誤
エ	誤	正	正
オ	誤	正	誤
カ	誤	誤	正

I

1931年、関東軍は奉天（現在の瀋陽）郊外の柳条湖で南満州鉄道の線路を爆破する事件を起こし、中国側のしたこととして攻撃を始め、「満州」全体を占領した。これは政府の許可を得ずに軍部の一部が起した行動だったが、不景気で人々の信頼を失っていた内閣は、⑭軍部をおさえる力がなく、総辞職した。

問15 下線部⑭に関連して、次のグラフは日本の予算に占める軍事費の割合の推移を表したものである。日中戦争が勃発した時期として正しいものを、次のグラフ中のア～エから1つ選び、記号で答えよ。



J

サンフランシスコ平和条約が結ばれてからも、日本と韓国・中国（中華人民共和国）との間には国交がなかった。⑮1965年、日韓基本条約が結ばれ国交が正常化すると、韓国は⑯1970年代にかけて飛躍的な経済成長を遂げた。一方、中華人民共和国との間では、アメリカ合衆国と中国の関係が改善されたこともあり、1972年、⑰日中共同声明が調印され、国交を正常化し、その後日中平和友好条約も結ばれた。1980年代になると中国は⑱「改革・開放」政策とよばれる改革を行い経済発展を目指した。

問16 下線部⑮について、1960年代の日本は高度経済成長期にあり、国民の生活も大きく変わった。高度経済成長期の説明として誤っているものを、次のア～エから1つ選び、記号で答えよ。

- ア バブル景気と呼ばれる好景気により高い経済成長率が続いた。
- イ 熊本の八代海沿岸域で発生した水俣病に代表されるように公害問題が発生した。
- ウ 東京オリンピックの開催にあわせて東海道新幹線が開業した。
- エ 国民総生産が資本主義国の中でアメリカ合衆国に次ぐ2位となった。

問17 下線部⑯について、韓国は台湾やシンガポールとともに1970年代以降新興工業経済地域（N I E S）と呼ばれ急成長した地域となった。韓国、台湾、シンガポール以外に新興工業経済地域（N I E S）と呼ばれたもう一つの地域として正しいものを、次の地図中ア～エから1つ選び、記号で答えよ。



問18 下線部⑰について、この時の日本の首相の名前を答えよ。

問19 下線部⑱に関連して、これを推進した指導者として正しいものを、次のア～エから1つ選び、記号で答えよ。

- ア 鄧小平      イ 毛沢東      ウ 蔣介石      エ 周恩来

問題は次のページに続きます。

4 次の時事に関する年表を見て、あとの問1～問5に答えよ。

2023年 2月	ロシアの① <u>ウクライナ軍事侵攻</u> から1年を迎える。
4月	② <u>こども家庭庁</u> が発足する。
6月	この月の③ <u>訪日外国人</u> 数が200万人を突破する。
7月	④の環太平洋経済連携協定（TPP）加入を承認する。
9月	⑤ <u>iPhone15</u> の発売が発表される。

問1 下線部①について、ロシアのウクライナ侵攻では、あらためて国際連合の問題点が浮き彫りとなった。これについて、拒否権という語句を用いて、簡潔に説明せよ。

問2 下線部②について、4月に発足したこども家庭庁では、資料1のように「こども若者★いけんぶらす」という取組をしている。これは、日本が批准した資料2の国際条約に基づいている。その国際条約の名称を答えよ。

#### 資料1

#### 資料2

##### 第12条

締約国は、自己の意見を形成する能力のある児童がその児童に影響を及ぼすすべての事項について自由に自己の意見を表明する権利を確保する。この場合において、児童の意見は、その児童の年齢及び成熟度に従って相応に考慮されるものとする。

問3 下線部③について、「外から中に入ってくる」を意味し、特に海外から訪れる外国人観光客をあらわす語句をカタカナ6字で答えよ。



問4 ④には2020年欧州連合（E U）を離脱し、2023年7月に環太平洋経済連携協定（T P P）に加盟したある国の名前が入る。その国の名前を答えよ。

問5 下線部⑤について、次の表はiPhoneの日本とアメリカでの販売価格を比較したものである。これについて述べた文章中の あ い にあてはまる語句の組み合わせとして正しいものを、あとのア～エから1つ選び、記号で答えよ。

	2021	2022	2023
機種名	iPhone13 (128GB)	iPhone14 (128GB)	iPhone15 (128GB)
アメリカでの販売価格	799ドル	799ドル	799ドル
日本での販売価格（税抜）	898,08円	108,909円	113,455円

販売価格は公式ホームページによる

ここ3年間価格は据え置かれているため、アメリカで買う場合は値段は変わらないが、日本で買う場合は あ の進行が要因の一つとなって、販売価格が上がっている。

アップルのように世界的にサービスを展開するG A F Aと総称されるI T企業がインターネット上のサービスの基盤を構築し私たちの生活を便利にしている。しかし、その大きな市場支配力から健全な市場を形成することを阻害しており、い 法上の問題を指摘する声が出始めている。

	あ	い
ア	円高	独占禁止
イ	円高	製造物責任（P L）
ウ	円安	独占禁止
エ	円安	製造物責任（P L）

