

2024年度 入学試験問題

社 会

(50分)

〔注意〕

- ① 問題は[1]~[4]まであります。
- ② 解答用紙はこの問題用紙の間にはさんであります。
- ③ 解答用紙には受験番号、氏名を必ず記入のこと。
- ④ 各問題とも解答は解答用紙の所定のところへ記入のこと。

西大和学園高等学校

問題は次のページから始まります。

1 次の文章を読み、あとの問1～問11に答えよ。

①北海道で生まれ育った私は、幼い頃から②納豆を食べていた。疑いもなく納豆は、日本だけに見られる③食品だと思っていたし、納豆の起源は日本だと思い込んでいた。しかし、日本以外にも納豆があるということが、照葉樹林文化論で紹介されていることを知り、軽い衝撃を受けた。そして、すでに触れたように、④ラオスで初めて海外の納豆と出会い、その後、⑤照葉樹林帯の⑥東南アジア大陸部とヒマラヤの納豆を調査することになった。納豆は、日本の代表的な伝統食品であることは間違いないが、東南アジア大陸部とヒマラヤの人びとにとっても、同じく⑦伝統的な食品である。

しかし、海外の納豆についての研究は、おそらく照葉樹林文化論の提唱以降の一九七〇年代になってからようやく開始された、極めて歴史の浅い研究分野だと言える。

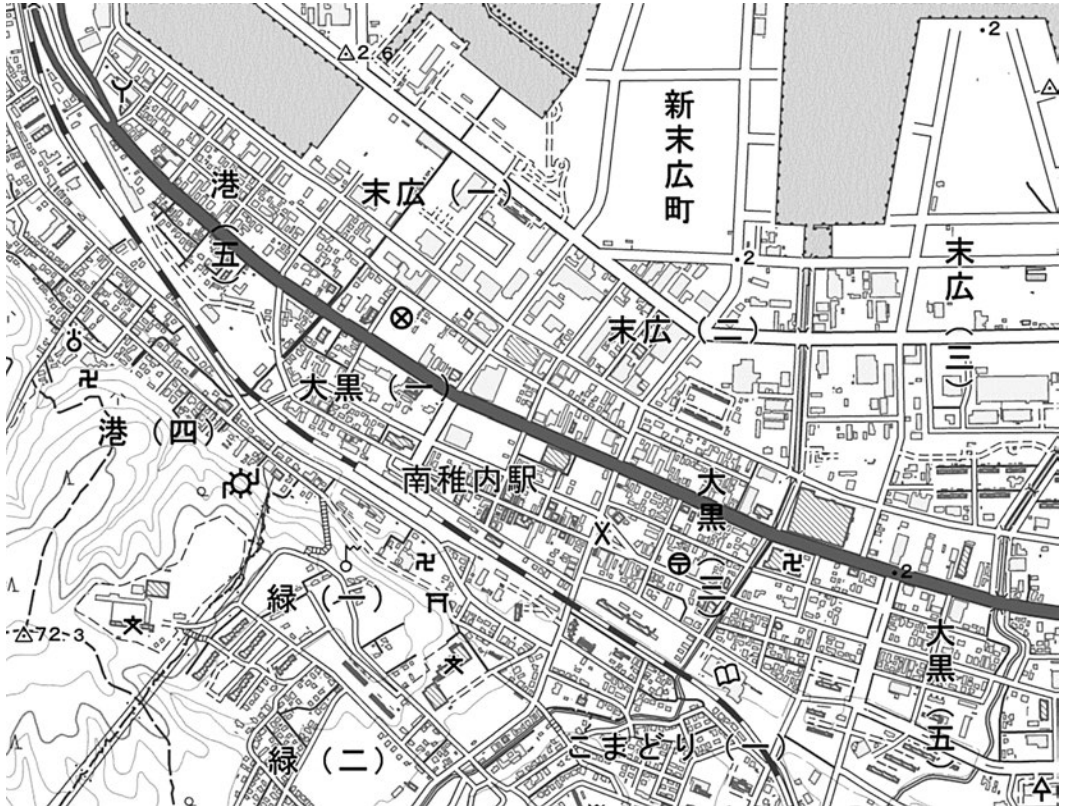
(中略)

岩田慶治が村で見たものは、紛れもなく納豆である。しかし、論文では豆せんべいと記されている。東南アジア大陸部の生業、民族、そして⑧宗教の専門家である岩田慶治ですら、照葉樹林文化論が提唱される前は、⑨タイに納豆のような発酵大豆食品があることを知らず、実際に目で見ても、それが納豆だとは気づいていなかったのかもしれない。しかし、日本のような糸引き納豆が、唯一の納豆の形態だと信じていたのなら、無理もないだろう。何の⑩情報も無しに、乾燥された円盤のような状態の食品を見て、それが納豆だと気がつく⑪日本人は少ないだろう。

横山智『納豆の起源』により作成

問1 下線部①について、次の(1)~(3)の問いに答えよ。

- (1) 次の地形図は、稚内市の一部を示したものである。この地形図を読み取った次の i ~ iii の文が正しいか誤っているかを判断し、その正誤の組み合わせとして正しいものを、あとのア~カから1つ選び、記号で答えよ。



地理院地図により作成

- i 縮尺は50,000分の1である。
- ii J Rの路線は通っているが、私鉄の路線は通っていない。
- iii 海岸線は、岩礁が露出した磯浜となっている。

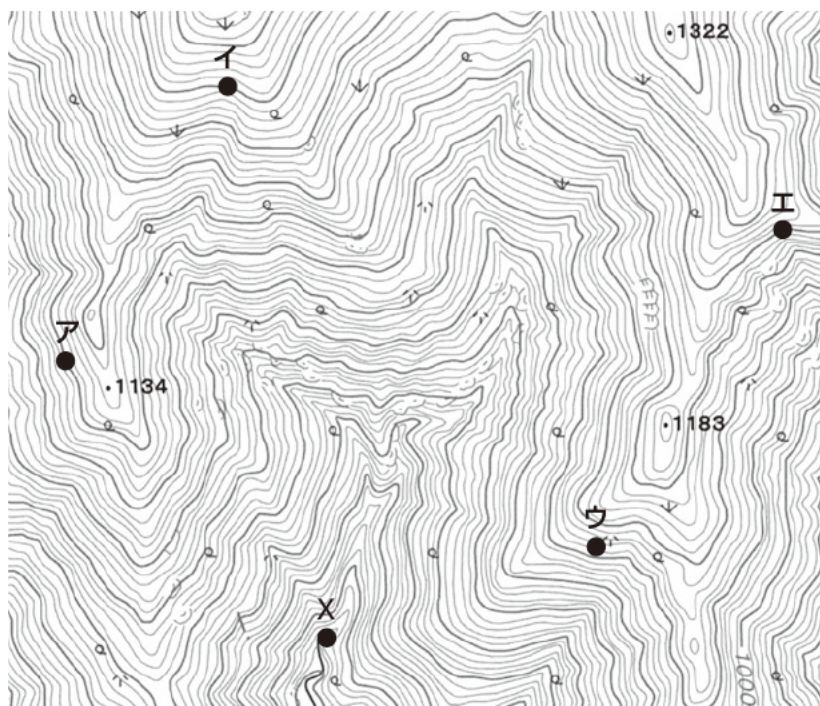
	i	ii	iii
ア	正	正	誤
イ	正	誤	正
ウ	正	誤	誤
エ	誤	正	正
オ	誤	正	誤
カ	誤	誤	正

- (2) 次の地形図は、十勝平野の一部を示したものである。針葉樹林が直線的に並んでいるが、これはどのような役割を果たしているか、簡潔に答えよ。



地理院地図により作成

- (3) 次の地形図は日高山脈の一部を示したものである。地表面を流れる雨水が地点Xに達する地点として正しいものを、ア～エから1つ選び、記号で答えよ。



地理院地図により作成

問2 下線部②について、次の(1)~(3)の問いに答えよ。

- (1) 次の表は、北海道地方、関東地方、近畿地方のいずれかの、納豆、ぶり、ほたて貝の1世帯当たり年間支出金額を示したものである。i ~ iii にあてはまる地方の組み合わせとして正しいものを、あとのア~カから1つ選び、記号で答えよ。

単位は円

	納豆	ぶり	ほたて貝
i	3,594	573	2,195
ii	3,672	1,698	788
iii	2,768	2,665	681

統計年次は2022年
「家計調査」により作成

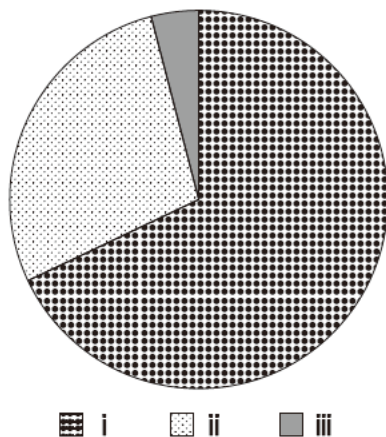
	i	ii	iii
ア	北海道地方	関東地方	近畿地方
イ	北海道地方	近畿地方	関東地方
ウ	関東地方	北海道地方	近畿地方
エ	関東地方	近畿地方	北海道地方
オ	近畿地方	北海道地方	関東地方
カ	近畿地方	関東地方	北海道地方

- (2) 次の文章中の ・ にあてはまる言葉の組み合わせとして正しいものを、あとのア~エから1つ選び、記号で答えよ。

大豆は日本人になじみの深い食材であるが、その多くを海外から輸入している。日本の大豆の自給率は小麦の自給率より 、日本は大豆を から最も多く輸入している。

	i	ii
ア	低く	アメリカ合衆国
イ	低く	ブラジル
ウ	高く	アメリカ合衆国
エ	高く	ブラジル

(3) 納豆の原料である大豆は、様々な用途に使用されている。次のグラフは、日本における大豆の需要量の内訳を示したものであり、i～iiiは、食品用、飼料・種子用、油糧用のいずれかである。i～iiiにあてはまる大豆の用途の組み合わせとして正しいものを、あとのア～カから1つ選び、記号で答えよ。

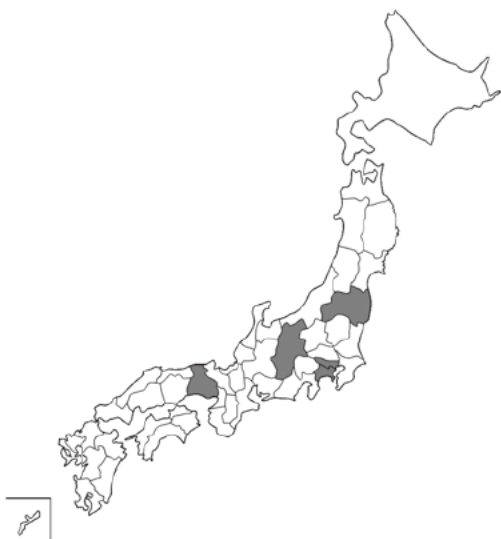


統計年次は2021年
農林水産省「大豆のホームページ」により作成

	i	ii	iii
ア	食品用	飼料・種子用	油糧用
イ	食品用	油糧用	飼料・種子用
ウ	飼料・種子用	食品用	油糧用
エ	飼料・種子用	油糧用	食品用
オ	油糧用	食品用	飼料・種子用
カ	油糧用	飼料・種子用	食品用

問3 下線部③について、次の図は、情報通信機械器具、食料品、石油製品・石炭製品、パルプ・紙・紙加工品のいずれかの、製造品出荷額等上位5都道府県を示したものである。食料品を示したものとして正しいものを、次のア～エから1つ選び、記号で答えよ。

ア



イ



ウ



エ



統計年次は2019年

『データでみる県勢 2023』により作成

問4 下線部④について、次の表は、インドネシア、タイ、バングラデシュ、ラオスのいずれかの、輸出上位品目とその全体に占める割合を示したものである。ラオスにあてはまるものを、表中の**ア**～**エ**から1つ選び、記号で答えよ。

ア	衣類 (84.2%)、繊維と織物 (5.1%)、履物 (2.2%)
イ	パーム油 (11.5%)、石炭 (11.5%)、鉄鋼 (9.2%)
ウ	機械類 (31.4%)、自動車 (9.9%)、金 (非貨幣用) (5.8%)
エ	電力 (16.3%)、野菜と果実 (10.8%)、金 (非貨幣用) (9.0%)

統計年次はバングラデシュが2015年、インドネシア・タイ・ラオスが2020年
『データブック オブ・ザ・ワールド 2023』により作成

問5 下線部⑤について、次の表は、照葉樹林帯を中心に栽培される、ある工芸作物の生産上位国とその全体に占める割合を示したものである。この工芸作物の名前を答えよ。

単位は%

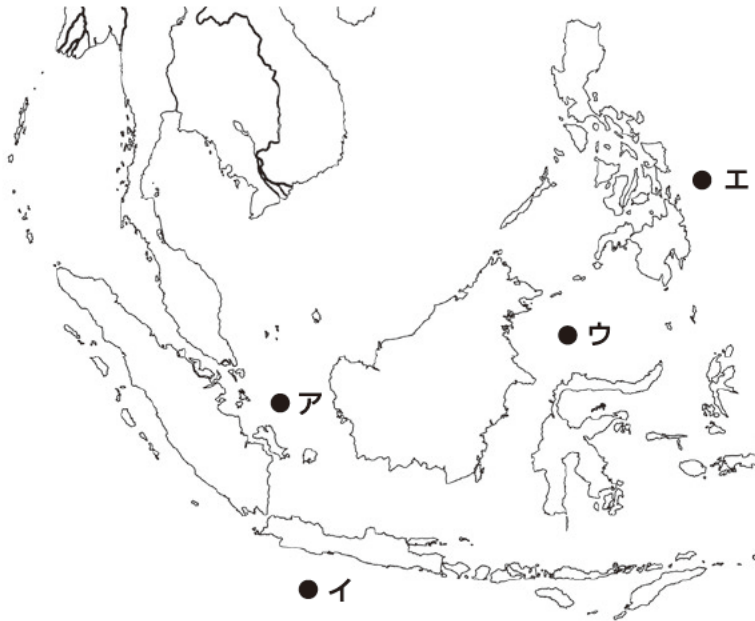
中国	42.3
インド	20.3
ケニア	8.1
アルゼンチン	4.8
スリランカ	4.0

統計年次は2020年

『データブック オブ・ザ・ワールド 2023』により作成

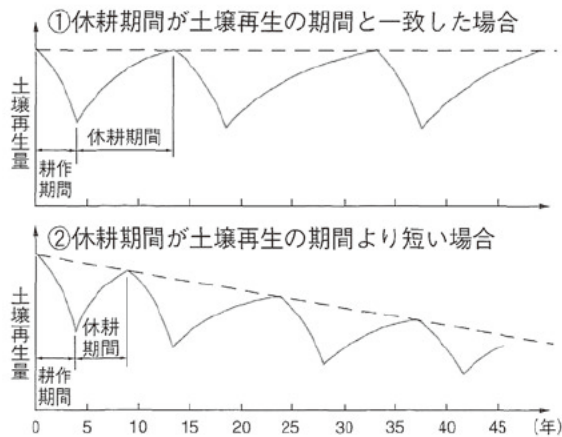
問6 下線部⑥について、次の(1)・(2)の問いに答えよ。

- (1) 次の地図中に示された地点のうち、最も水深が浅い地点として正しいものを、地図中のア～エから1つ選び、記号で答えよ。



- (2) 東南アジアの熱帯地域では、伝統的に焼畑農業が行われている。本来、【資料】中の①のように、焼畑農業は持続可能な農業である。しかし、【資料】中の②のように、休耕期間の短縮によって、地力が回復せずに土地の荒廃が進むことがある。休耕期間の短縮が生じている理由を、「人口」という語句を必ず使用して、30字以内で答えよ。

【資料】



問7 下線部⑦について、次の i ~ iii は世界各地の伝統的な食品について述べた文である。
 i ~ iii の文が正しいか誤っているかを判断し、その正誤の組み合わせとして正しいものを、あとのア~カから1つ選び、記号で答えよ。

- i トルコでは、豚肉を串に刺して焼いたケバブという料理が食される。
- ii ベトナムでは、米粉で作られるフォーという麺が食される。
- iii メキシコでは、ジャガイモから作った生地には様々な具材をのせるタコスが食される。

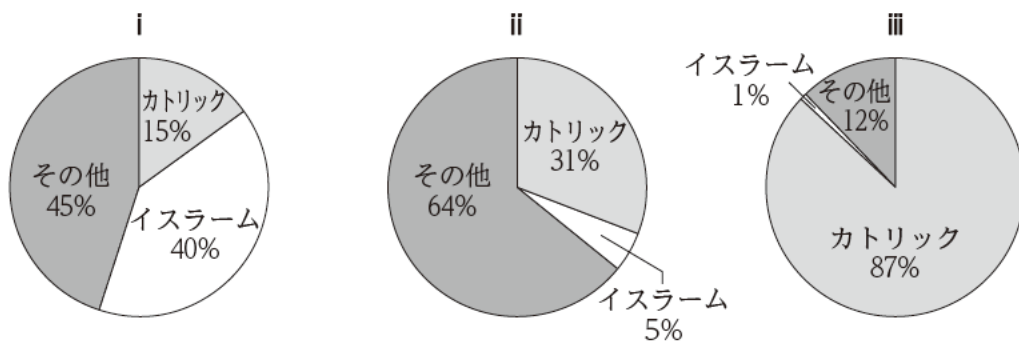
	i	ii	iii
ア	正	正	誤
イ	正	誤	正
ウ	正	誤	誤
エ	誤	正	正
オ	誤	正	誤
カ	誤	誤	正

問8 下線部⑧について、次の(1)・(2)の問いに答えよ。

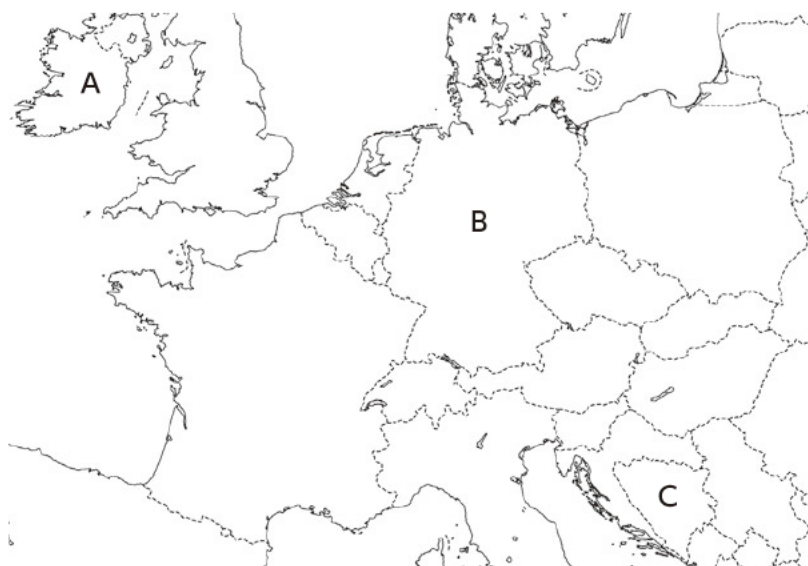
- (1) 次の写真は、上座部仏教、大乘仏教、ヒンドゥー教、ユダヤ教のいずれかの宗教の施設を写したものである。スリランカで多数派を占める宗教の施設として正しいものを次のア~エから1つ選び、記号で答えよ。



(2) 次の i ~ iii のグラフは、下の地図中の A ~ C のいずれかの国の宗教構成を示したものである。i ~ iii と A ~ C との組み合わせとして正しいものを、あとのア ~ カから 1 つ選び、記号で答えよ。

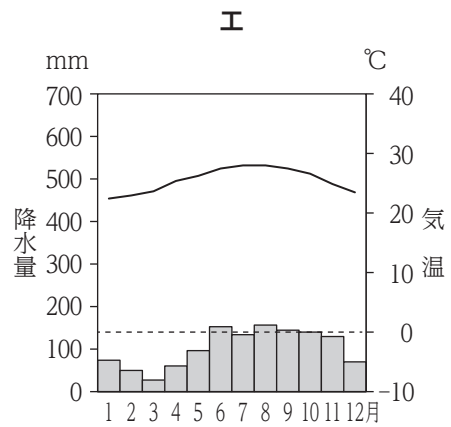
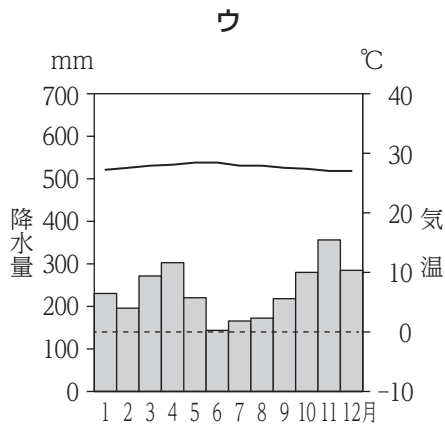
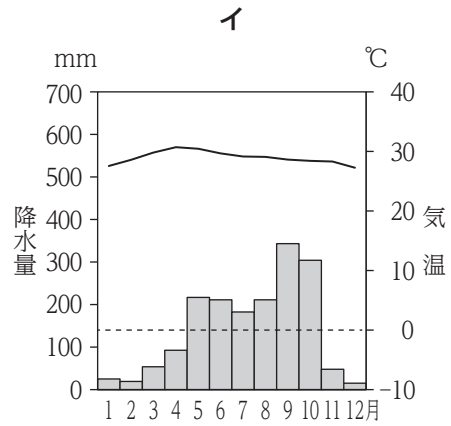
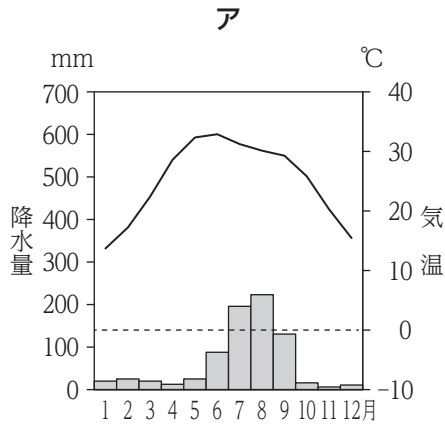


統計年次は i が 2002 年、ii が 2010 年、iii が 2006 年
 『データブック オブ・ザ・ワールド 2023』 により作成



	i	ii	iii
ア	A	B	C
イ	A	C	B
ウ	B	A	C
エ	B	C	A
オ	C	A	B
カ	C	B	A

問9 下線部⑨について、次の雨温図は、インド、キューバ、タイ、マレーシアのいずれかの国の首都のものである。タイの首都の雨温図として正しいものを、次のア～エから1つ選び、記号で答えよ。



値は1991年～2020年の平年値
気象庁ホームページにより作成

問10 下線部⑩について、次の表は、イギリス、中国、日本のいずれかのインターネット利用者率とキャッシュレス決済比率を示したものである。i～iiiにあてはまる国の組み合わせとして正しいものを、あとのア～カから1つ選び、記号で答えよ。

単位は%

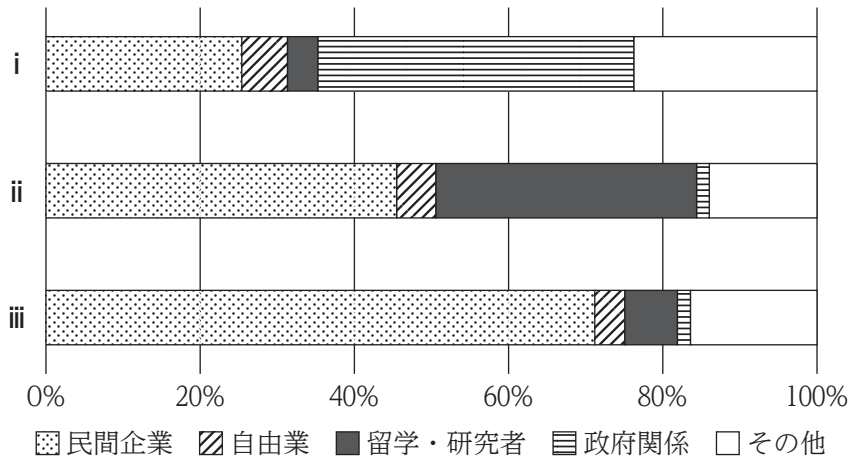
	インターネット利用者率	キャッシュレス決済比率
i	94.8	63.9
ii	90.2	29.8
iii	70.4	83.0

統計年次は2020年

『データブック オブ・ザ・ワールド 2023』などにより作成

	i	ii	iii
ア	イギリス	中国	日本
イ	イギリス	日本	中国
ウ	中国	イギリス	日本
エ	中国	日本	イギリス
オ	日本	イギリス	中国
カ	日本	中国	イギリス

問11 下線部①について、次のグラフは、アジア、アフリカ、北アメリカのいずれかの地域における、日本人長期滞在者の職業構成比率を示したものである。i ~ iii にあてはまる地域の組み合わせとして正しいものを、あとのア～カから1つ選び、記号で答えよ。



統計年次は2017年

「海外在留邦人数調査統計」により作成

	i	ii	iii
ア	アジア	アフリカ	北アメリカ
イ	アジア	北アメリカ	アフリカ
ウ	アフリカ	アジア	北アメリカ
エ	アフリカ	北アメリカ	アジア
オ	北アメリカ	アジア	アフリカ
カ	北アメリカ	アフリカ	アジア

問題は次のページに続きます。

2 歴史学は日々進歩しており、歴史的な事柄について、新たな発見や今までとは違った解釈がなされるようになっている。次のA～Eの文章を読み、あとの問1～問10に答えよ。

A

縄文時代と弥生時代の区分は、の違いや稲作の始まりを基準として考えられることが多かった。

稲作については、九州北部に伝わり、順に東へ伝わっていったとかつては考えられていたが、現在では関東地方よりも先に東北地方へ稲作が伝わっていたことが明らかになっている。青森県にある砂沢遺跡では、①紀元前4世紀頃につくられたと考えられる水田跡が発見されている。

問1 文章A中の空欄にあてはまる語句を漢字2字で答えよ。

問2 下線部①の時期までの世界でおきたできごととして正しいものを、次のア～エから1つ選び、記号で答えよ。

- ア 新羅が朝鮮半島を統一した。
- イ 地中海一帯を支配するローマ帝国が成立した。
- ウ インダス川流域にモヘンジョ＝ダロが建設された。
- エ ムハンマドがイスラム教を開いた。

B


②聖武天皇の遺品などが収められている正倉院は、かつて「シルクロードの終着駅」という形容が独り歩きしたように、收藏された美術品の国際色の豊かさがことさらに強調されてきた。

しかし、正倉院宝物のうち海外からの舶来品は5%未満に過ぎず、宝物の多くは国内で製作されたことがわかっている。また、律令体制における人々の支配に欠かせなかった も、正倉院に残されている。

問3 下線部②の人物がおこなったこととして正しいものを、次のア～エから1つ選び、記号で答えよ。

- ア 唐の律令をまねて、大宝律令をつくった。
- イ 坂上田村麻呂を東北へ派遣し、蝦夷を平定した。
- ウ 農地を増やすために、墾田永年私財法を出した。
- エ 藤原京から平城京へ、遷都を実施した。

問4 次の写真は、文章B中の空欄にあてはまる語句を示したものである。写真も参考に、空欄にあてはまる語句を漢字2字で答えよ。



C

鎌倉文化というと③仏教の新しい動きとして、浄土宗や日蓮宗、④禅宗などの登場が紹介されており、かつてはこれらを「鎌倉新仏教」として大きくとりあげられてきた。

しかし、鎌倉時代においては天台宗や真言宗など平安時代から続く伝統的な仏教の方が主流であったことが明らかになっており、新仏教とよばれた宗派の方がむしろ少数派であったと考えられている。

問5 下線部③について、鎌倉時代に多くの新しい宗派が生まれた理由を、鎌倉時代のできごとをまとめた次の年表を参考にしつつ30字以内で答えよ。

西暦	できごと
1180	治承・寿永の乱が始まる
1181	養和のききんがおきる
1192	源頼朝が征夷大將軍に任命される
1221	承久の乱がおきる
1232	御成敗式目が制定される
1257	鎌倉で大きな地震が発生する
1259	正嘉のききんがおきる
1274	文永の役がおきる
1281	弘安の役がおきる

問6 下線部④について、中世の禅宗に関して説明した次の i・ii の文の正誤を判断し、i・ii の両方が正しければア、i が正しく ii が誤っていればイ、i が誤りで ii が正しければウ、i・ii の両方が誤っていればエと答えよ。

- i 禅僧のなかには、日明貿易の使者として活躍する者もいた。
- ii 禅宗寺院のなかには、枯山水の庭園がつくられることもあった。

D

江戸幕府の外交政策について、かつては鎖国という表現が強調されていたが、近年は⑤四つの窓口を通じて海外に開かれていたと説明することが多い。

そもそも「鎖国」という語は、ドイツ人医師のケンペルの著作が翻訳された、19世紀初めに生まれた語であり、⑥幕府が対外関係を整備した時期から使われていたわけではない。

問7 下線部⑤に関連して、江戸時代における海外との関わりについて説明したものとして誤っているものを、次のア～エから1つ選び、記号で答えよ。

ア 長崎では、日本と国交を結んだ清からの使節をもてなすために唐人屋敷が設けられた。

イ 松前藩は、アイヌの人々との交易を通じて鮭や昆布などの海産物を手に入れていた。

ウ 対馬藩は、文禄・慶長の役で途絶えていた日本と朝鮮の国交回復のなかだちをつとめた。

エ 薩摩藩は、琉球からの使節を異国風に仕立て、江戸幕府や薩摩藩の権威を示そうとした。

問8 下線部⑥について、オランダ商館が長崎の出島に移されたときの江戸幕府の将軍を答えよ。

E

生類憐みの令を出した5代将軍徳川綱吉は、極端な動物愛護政策に加え、多くの寺院建設などにより⑦幕府財政を悪化させ、人々の生活を圧迫した人物として低く評価されてきた。

しかし、近年は武力にかわり学問を政治の中心に置く方向性を打ち出したことで、戦国時代以来の風潮を否定して平和を実現した人物として綱吉を⑧高く評価をすることもある。

問9 下線部⑦に関連して、財政難を克服するために綱吉は元禄小判をつくった。元禄小判について説明した次の文章の空欄 と にあてはまる言葉の組み合わせとして正しいものを、あとのア～エから1つ選び、記号で答えよ。

従来の貨幣より金の含有量を減らした新たな金貨をつくることによって、貨幣の量を 、財政収入を補おうと考えた。

しかし、この影響で物価が するなど、社会に混乱をもたらすことになった。

	X	Y
ア	増やし	上昇
イ	増やし	下落
ウ	減らし	上昇
エ	減らし	下落

問10 下線部⑧に関連して、徳川綱吉のように近年評価されるようになってきた人物として田沼意次があげられる。田沼意次についての**評価 a・b**とその**根拠となる政策 c～f**として最も適当な組み合わせを、あとの**ア～エ**から1つ選び、記号で答えよ。

評価

- a 収入の中心である年貢米を増やすことで、幕府の財政を立て直そうとした。
- b 商品の流通や生産から得る利益によって、幕府の財政を立て直そうとした。

根拠となる政策

- c 干拓工事や蝦夷地の開拓を通じ、新たな農地を確保した。
- d 商品作物の栽培を制限し、米などの穀物の栽培を奨励した。
- e 江戸周辺の関所を廃止し、自由な交通を可能にした。
- f 商工業者による株仲間の営業権を、積極的に認めた。

ア a・c **イ** a・d **ウ** b・e **エ** b・f

3 2022年度から歴史総合という科目が必修になり、西大和学園でも高校1年生で履修している。1年間歴史総合を学んだ高校生による次の会話文A・Bを読み、あとの問1～問10に答えよ。

A

しおん：歴史総合は、近現代史について日本史と世界史の区別なく学ぶ教科で、とても面白かったね。

やまと：授業が始まる前は、単語をとにかくたくさん覚えないと…と思っていたけど、実際には考えることがとても多く、毎回の授業後に頭が痛くなったのは良い思い出だね。どんなことを学んだ1年だったか、簡単におさらいしてみようよ。

まこと：最初は「近代化と私たち」だったね。近代化を考える3つのキーワードがあるって授業で学んだかな。“工業化”と“①市民社会の形成”はパッと出てきたけど、あと一つは何だったっけ。

やまと：“国民国家の形成”じゃなかった…？


まこと：そうだった、ありがとう。授業の問いのなかでは、“工業化”で学んだ「なゼイギリスで世界に先がけた②産業革命がおこったのか」という問いが印象に残っているんだ。イギリス国内の要因だけでなく、国外にも目を向けるところが面白かった。

しおん：③ペリー来航にともなう衝撃が近代日本の出発点とも言えるように、江戸時代末期から④明治時代にかけての日本の歩みにも、海外からの影響が多くあるんだよね。

やまと：そんななかで、日本でも⑤国民意識がうまれていったんだ。江戸時代との人々の意識の違いについての考察は、たくさんの学びがあったね。

問1 下線部①に関連して、市民社会が形成される基礎には啓蒙思想の拡大があった。これについて、18世紀半ばに『法の世界』を著し、三権分立を主張した人物を答えよ。

問2 下線部②に関連して、日本の産業革命の様子は貿易統計からも読み取ることができる。次のグラフは、1885年と1899年における日本の輸出品と輸入品について示したものである。このグラフから読み取ることができる内容について説明したあとの i・ii の文の正誤を判断し、i・ii の両方が正しければア、i が正しく ii が誤っていればイ、i が誤りで ii が正しければウ、i・ii の両方が誤っていればエと答えよ。



- i 1899年には、綿花を輸入して綿糸を輸出する加工貿易がおこなわれるようになっていた。
- ii 国内の産業革命の進展により、1885年から1899年にかけて綿織物の輸入額は減少した。

問3 下線部③に関連して、日本は中国から遅れること10年余りで開国することになったが、中国ほど欧米列強からの圧力を受けずに済んだ。その一因として、日本が開国した1850年代から60年代にかけての欧米列強をめぐる様々な動きがあげられる。こうした動きとして誤っているものを、次のア～エから1つ選び、記号で答えよ。

ア インド人兵士のイギリス人上官に対する反乱が各地でおこり、インド大反乱となった。

イ 黒海への進出を進めるロシアと、それを警戒するイギリスなどの間でクリミア戦争がおこった。

ウ フランスの皇帝になったナポレオンが、ヨーロッパにおける支配領域を拡大していた。

エ アメリカ合衆国では奴隷制などをめぐる対立から、国を二分する南北戦争が始まった。

問4 下線部④の時期におけるできごととして正しいものを、次のア～エから1つ選び、記号で答えよ。

ア 外国船砲撃への報復として、イギリスなど4か国の連合艦隊が下関の砲台を占領した。

イ 日本は中国政府に対して二十一か条の要求を提出し、その多くを認めさせた。

ウ 被差別部落の人々が差別からの解放を訴え、京都で全国水平社を結成した。

エ 大隈重信を内閣総理大臣として、日本で初めての政党勢力を中心とする内閣が成立した。

問5 下線部⑤に関連して、Aの会話文の後、3人は国民意識の形成に関わる事がらとして、それぞれ次のように発言した。3人の発言の波線部について述べた文として正しいものを、あとのア～エから1つ選び、記号で答えよ。

発 言

しおん：江戸時代とは違って、徴兵令により士族と平民の身分に関わらず兵役の義務を負うようになったことが大きいんじゃないかな。兵役のなかで、国のために訓練しているんだという意識が芽生えていき、その意識は対外戦争を経験するなかでより強まっていったんだよね。

やまと：私は、学制によって6歳以上の男女が初等教育を受けるようになったことが大きいと思う。全国の学校で同じ言語や知識が学ばれ、人々は日本人としての共通の意識を持つようになったんだよね。もちろん、北海道や沖縄などでは固有の意識が否定される状況になっていたことを忘れてはいけないね。

まこと：他にも、帝国議会が開かれて人々が衆議院議員を選ぶ権利を獲得していったこともあるんじゃないかな。初めは納税額による制限があったけど、大正末期にかけて男子普通選挙が実現するなかで、国の政治に関わっているという意識を持つようになったと思うよ。

ア 3人とも国民意識の形成に関わることをあげている。

イ しおんさんのみ国民意識の形成に関わらないことをあげている。

ウ やまとさんのみ国民意識の形成に関わらないことをあげている。

エ まことさんのみ国民意識の形成に関わらないことをあげている。

B

しおん：次に学んだのは、「国際秩序の変化や [] 化と私たち」だったね。

やまと：国際秩序の変化では、2つの世界大戦を通じ、平和な状態を維持するためのしくみづくりについて学んだね。⑥第一次世界大戦後に築かれた国際協調のしくみが、第二次世界大戦へ向かっていくなかで崩れていくところが印象的で、平和を保つのは難しいなと思ったよ。

まこと：授業では、よく国際関係を示す風刺画などの資料が使われていたよね。私は⑦1930年代末の状況を示したこの風刺画が印象に残っているよ。ところで、国際秩序の変化と並んであげられている [] 化については、よく覚えていないなあ。

しおん：私は [] 化の授業が新鮮で印象に残っているんだ。 [] は、エリートではない多数の人々という意味で、20世紀には政治や経済、社会を動かす存在になったんだ。日本でも第一次大戦後に [] に向けた文化が発展したんだよね。今も [] の時代なのかなって思ったよ。

やまと：最後には「グローバル化と私たち」を学んだよね。グローバル化は、「人やモノ、お金、情報が国や地域を超えて世界規模で移動し、世界の一体化がより進むこと」と授業中に調べたら出てきたよ。⑧第二次大戦後の日本経済もグローバル化の影響のなかで推移していったんだよね。

まこと：グローバル化の傾向は、⑨冷戦の終結にもなって急速に進んだんだよね。今はインターネットも普及し、世界でおこったできごともありリアルタイムで知ることができるよね。

しおん：話をしていたら、いろいろ聞きたいことも出てきたね。明日は先生のところに行って疑問をぶつけてみようよ。

問6 文章B中の空欄にあてはまる語句を漢字2字で答えよ。

問7 下線部⑥について、第一次世界大戦後の国際協調の枠組みについて説明したものとして正しいものを、次のア～エから1つ選び、記号で答えよ。

ア 国際連盟の常任理事国は、アメリカ合衆国やイギリス、日本などがつとめた。

イ 第一次世界大戦で敗れたドイツの国際連盟への加盟は、認められなかった。

ウ ワシントン会議では、海軍の主力艦の保有を制限する条約が結ばれた。

エ ワシントン会議によって、アジア・太平洋地域の多くの国の独立が認められた。

問8 下線部⑦について、次の風刺画と絵の下側に付されていた言葉はどのようなことを示しているか、絵に関わる条約名を必ず示して50字以内で答えよ。



言葉：ハネムーンはいつまで続くのだろうか？

問9 下線部⑧に関連して、次の文章は1956年度の経済白書の一部である。この文章に関して説明したあとの i・ii の文の正誤を判断し、i・ii の両方が正しければア、i が正しく ii が誤っていればイ、i が誤りで ii が正しければウ、i・ii の両方が誤っていればエと答えよ。

戦後日本経済の回復の速やかさには誠に万人の意表外にでるものがあった。それは日本国民の勤勉な努力によって培われ、世界情勢の好都合な発展によって育まれた。しかし、敗戦によって落ち込んだ谷が深かったという事実そのものが、その谷からはい上がるスピードを速からしめたという事情も忘れることはできない。経済の浮揚力には事欠かなかった。(中略) いまや経済の回復による浮揚力はほぼ使い尽くされた。なるほど、貧乏な日本のことゆえ、世界の他の国々に比べれば、消費や投資の潜在需要はまだ高いかもしれないが、戦後の一時期に比べれば、その欲望の熾烈さは明らかに減少した。もはや「戦後」ではない。我々はいまや異なった事態に直面しようとしている。回復を通じての成長は終わった。今後の成長は、近代化によって支えられる。そして近代化の進歩も、速やかにしてかつ安定的な経済の成長によって初めて可能となるのである。

- i この経済白書が出されるまでの日本の経済復興には、ベトナム戦争により生じた特需景気が影響した。
- ii 文章の波線部は、復興を通じた経済成長が終わり、今後の経済成長の見通しは甘くないという意味で用いられている。

問10 下線部⑨について、冷戦終結後の世界や日本について説明したものとして誤っているものを、次のア～エから1つ選び、記号で答えよ。

- ア ソ連の解体をうけ、先進国首脳会議（サミット）が初めて開かれた。
- イ ヨーロッパではEUが成立し、その共通通貨としてユーロがつけられた。
- ウ 非自民党の連立内閣が成立し、1955年から続いた自民党による政権が終わった。
- エ 同時多発テロをきっかけとして、アメリカ合衆国がアフガニスタンを攻撃した。

問題は次のページに続きます。

4 次の文章を読み、あとの問1～問5に答えよ。

この入試がおこなわれるちょうど1年前、トルコ・①シリア地震が発生し、多数の死傷者が出た。②内閣も早々に支援を表明するなど、地震大国ともよばれる日本では関心の高いニュースであった。

地震の発生をうけて、西大和学園でも変化があった。今の中学3年生からなる有志の皆さんが、現地の③子どもたちに向けた物資を集めるなどの活動を始めたのだ。この活動については、多くの④企業や団体が賛同し、段ボール400箱に相当する物資が集められた。有志の皆さんは、この活動にとどまらず、子どもの貧困や⑤教育格差にも関心を寄せるなど、次なる活動を模索している。

自分の能力や時間を、見ず知らずの他者のために使うことができる、そんな人たちがこの学校からたくさん育ってくれることを願っている。

問1 下線部①に関連して、シリアは長年にわたる内戦の影響で、多くの難民が生じている国である。これについて、かつて緒方貞子が活躍し、世界の難民の保護と支援を担ってきた国際連合の機関として正しいものを、次のア～エから1つ選び、記号で答えよ。

ア IAEA イ UNHCR ウ WTO エ UNESCO

問2 下線部②に関連して、日本の内閣について説明したものとして正しいものを、次のア～エから1つ選び、記号で答えよ。

ア 内閣総理大臣は、政権を担う与党の党首からなることが一般的で、国会からの指名で選ばれる。

イ 内閣総理大臣から任命される国務大臣については、その全員が国会議員でなければならない。

ウ 閣議では、内閣総理大臣と国務大臣の全員が出席し、多数決により内閣の方針を決定する。

エ 内閣は、天皇の国事行為に助言と承認を与えたり、最高裁判所の長官を任命したりする。

問3 下線部③に関連して、子どもや子育てへの支援について説明した次の i・ii の文の正誤を判断し、i・ii の両方が正しければ**ア**、i が正しく ii が誤っていれば**イ**、i が誤りで ii が正しければ**ウ**、i・ii の両方が誤っていれば**エ**と答えよ。

- i 子どもを取り巻く社会問題に対応するため、内閣府の外局としてこども家庭庁が設置されている。
- ii 子育て支援策としては、保育所の増設や育児休暇を取得しやすい環境の整備があげられる。

問4 下線部④に関連して、日本の企業について説明したものとして誤っているものを、次の**ア～エ**から1つ選び、記号で答えよ。

- ア** 独占禁止法は、企業の健全な競争を保ち、消費者に不利益が及ばないようにするため制定された。
- イ** 日本の企業数全体のなかで、大企業の数占める割合はおよそ30%で、中小企業の数占める割合はおよそ70%である。
- ウ** 起業からの年数が若く、新しい技術やサービスなどで挑戦する企業をベンチャー企業という。
- エ** 近年は、仕事の成果に応じて賃金を支払うなど、成果主義を採用する企業が増えている。

問5 下線部⑤について、日本の教育に関して説明した次の i・ii の文の正誤を判断し、i・ii の両方が正しければ**ア**、i が正しく ii が誤っていれば**イ**、i が誤りで ii が正しければ**ウ**、i・ii の両方が誤っていれば**エ**と答えよ。

- i 日本国憲法には、普通教育を受ける義務について子ども自身が負うものと規定されている。
- ii 国と地方自治体の教育費の負担割合については、国の方が多い。

社会解答用紙



240206-20

↓ここにシールを貼ってください↓

受験番号	氏名

※の欄には何も書かないこと。

1	問1	(1)	(2)	※	
		(3)	問2 (1)		(2)
	問2	(3)	問3		問4
	問5		問6 (1)		
	問6	(2)			
	問7		問8 (1)		(2)
	問9		問10		問11
2	問1		問2	問3	※
	問4				
	問5				
	問6		問7	問8	
	問9		問10		
3	問1		問2	問3	※
	問4		問5	問6	
	問7				
	問8				
	問9		問10		
4	問1		問2	問3	※
	問4		問5		

※